








FIGURAS: VALOR RÍTMICO Y VALOR EN PULSOS

1. Arrastra a cada figura su valor rítmico y su valor en pulsos.

						
1	4 ppm	1/8	1 ppm	.25 ppm	.125 ppm	1/16
2 ppm	1/2	1/32	0.5 ppm	1/4	1/64	.062 ppm

1. Relaciona correctamente



Figura que representa 8 pulsos



Silencio de cuadrada



Aumenta medio tono su altura



Su valor es la mitad de la figura a la que es agregada



Su valor es de 2 pulsos



Disminuye medio tono su altura



Figura que elimina sostenidos y bemoles