

Nama :



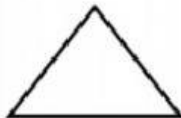
Ayo Mengamati



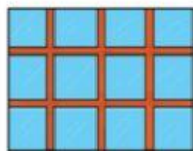
Setiap rumah ada bagian-bagiannya.
Semua bagian harus selalu bersih.
Amatilah gambar bagian-bagian rumah berikut ini.
Sebutkan nama-namanya.
Sebutkan nama bentuknya.
Tuliskan pada tempat yang tersedia.



Pintu - persegi panjang



Atap - segi tiga



Lantai - persegi

Subtema 2: Lingkungan Sekitar Rumahku

53

Ayo Berlatih

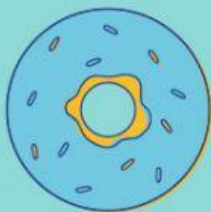


Kamu sudah mengenal bentuk-bentuk bangun

MENJODOHKAN

Ayo kita tarik garis ke gambar yang sesuai!





Wah enak sekali yaa makanan berikut. Yuk kita amati bentuknya dan kita hitung masing-masing



Find and count the following fruits.













AYO BERHITUNG

Perhatikan bentuk dari gambar-gambar
berikut, kemudian hitunglah!

