

PENILAIAN HARIAN TEMA 7 SUBTEMA 3

NAMA :

ALAMAT E-MAIL IBU INTAN : intanbaiduri38@guru.sd.belajar.id

Bacalah teks berikut ini untuk menjawab soal nomor 1 dan 2!

Beda Budaya, Tetap Saudara

Melestarikan dan mengembangkan budaya bangsa merupakan sikap yang perlu dikembangkan sebagai perwujudan sikap positif dalam menyikapi keragaman. Selain itu, juga merupakan sikap dan kegiatan positif untuk mengisi kemerdekaan.

Untuk bisa mempunyai sikap menerima keragaman suku bangsa dan budaya yang ada di masyarakat, diperlukan kesadaran dan keterbukaan. Namun, dengan menghayati semboyan “Bhinneka Tunggal Ika”, perbedaan-perbedaan itu akan makin tidak terasakan. Kesamaan cita-cita untuk menjadi bangsa yang kuat, bersatu, dan utuh telah menyingkirkan sejumlah perbedaan yang ada. Kata Bung Karno “Bersatu karena Kuat, Kuat karena Bersatu”. Usaha yang dapat dilakukan untuk menerima keragaman suku bangsa dan budaya masyarakat lain yaitu dengan mempelajarinya.

Dengan mengikuti dan mempelajari budaya bangsa, seiring dengan berjalannya waktu, akan muncul rasa mencintai. Pada akhirnya, akan timbul keinginan untuk mengembangkan dan melestarikannya.

SOAL PILIHAN GANDA

1. Berdasarkan teks bacaan di atas, arti “Bhinneka Tunggal Ika” adalah
 - A. Bersatu kita teguh bercerai kita runtuh
 - B. Walaupun berbeda-beda tetap satu juga
 - C. Bersatu karena Kuat, Kuat karena Bersatu
 - D. Di depan memberi contoh, di belakang memberi dorongan

SOAL PILIHAN GANDA KOMPLEK

Berilah tanda centang (✓) pada jawaban yang tepat. Jawaban dapat lebih dari satu.

2. Berdasarkan teks di atas, usaha-usaha yang dapat dilakukan untuk menerima keragaman suku bangsa dan budaya adalah
 - ☐ Mengikuti pergelaran atraksi budaya
 - ☐ Mencintai budaya asing
 - ☐ Mengenalkan budaya bangsa
 - ☐ Mempelajari budaya bangsa

Bacalah teks berikut ini untuk menjawab soal nomor 3 dan 4!

Surat Undangan

Surat undangan merupakan surat yang berisi pemberitahuan dan permintaan kesediaan seseorang untuk menghadiri suatu acara atau kegiatan. Kalimat yang digunakan dalam undangan haruslah efektif, yaitu singkat, padat, dan jelas. Tujuannya agar orang yang membacanya dapat segera mengerti isinya. Surat undangan dibedakan atas 3 jenis, yaitu sebagai berikut.

1. Undangan resmi

Undangan yang mengatasnamakan sebuah instansi atau organisasi dan kedinasan. Biasanya dipergunakan untuk kepentingan kedinasan.

2. Undangan setengah resmi

Undangan yang mengatasnamakan perorangan yang ditujukan ke perorangan maupun instansi atau organisasi.

3. Undangan tidak resmi

Undangan yang mengatasnamakan perorangan yang ditujukan kepada perorangan untuk kepentingan perorangan, seperti undangan ulang tahun, undangan perayaan kelahiran.

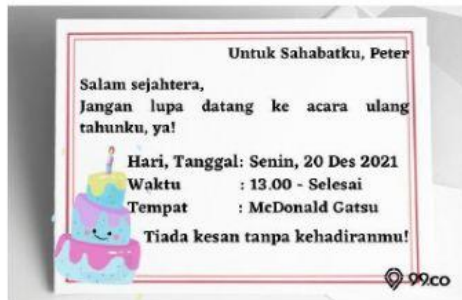
SOAL BENAR SALAH

3. Pilihlah benar atau salah disesuaikan dengan pernyataan!


Pernyataan	Benar	Salah
Kalimat yang digunakan dalam undangan haruslah efektif dan panjang.		
Surat undangan dibedakan atas 3 jenis		
Surat undangan merupakan surat yang berisi pemberitahuan menghadiri suatu acara.		
Undangan resmi menggunakan bahasa yang baku.		

SOAL MENJODOHKAN


Jodohkanlah gambar dengan pernyataan di bawah ini!



Surat undangan resmi



Surat undangan tidak resmi



Surat undangan setengah resmi

Bacalah teks berikut ini untuk menjawab soal nomor 5 dan 6!

Menyublim dan Mengkristal

Perubahan wujud benda terjadi di sekitar kita. Salah satu perubahan wujud yang mungkin tidak kamu sadari adalah penyubliman. Pernahkah kamu mengamati kapur barus yang diletakkan ibu di dalam lemari untuk melindungi pakaian dari ngengat? Kapur barus di lemari pakaianmu dalam beberapa hari akan mengecil dan menghilang dari lemari pakaianmu. Apakah yang sebenarnya terjadi? Mengapa kapur barus itu seperti menghilang dari lemari? Kapur barus merupakan benda padat, yang dalam waktu tertentu berubah wujud menjadi gas. Kapur barus mengalami penyubliman. Menyublim adalah peristiwa berubahnya wujud benda dari padat ke gas.

Selain penyubliman, perubahan wujud benda lainnya adalah pengkristalan. Pengkristalan ialah perubahan wujud benda dari gas menjadi padat dengan proses pelepasan maupun penyerapan kalor. Contoh peristiwa pengkristalan dengan proses pelepasan kalor adalah salju dan gas yang didinginkan. Contoh peristiwa pengkristalan dengan penyerapan kalor adalah pada proses pembuatan garam. Garam dibuat dari air laut, kemudian diuapkan dengan sinar matahari di dalam petak-petak hingga tersisa kristal-kristal garam.

SOAL ISIAN SINGKAT

5. Berdasarkan teks bacaan di atas, kapur barus setelah didiamkan beberapa hari akan menghilang. Peristiwa tersebut merupakan contoh peristiwa . . .

SOAL TARIK LURUS GARIS

6. Tariklah garis lurus dari kotak kanan ke kotak kiri!

Peristiwa berubahnya wujud benda dari padat ke gas.

Mengkristal

Proses pembuatan garam.

Benda padat

Kapur barus dan es.

Menyublim

Bacalah teks berikut ini untuk menjawab soal nomor 7 dan 8!

Peristiwa Lahirnya Pancasila

Lahirnya Pancasila sebagai dasar negara terjadi pada saat Sidang BPUPKI (Badan Penyelidik Usaha Persiapan Kemerdekaan Indonesia) yang pertama. Berikut usulan-usulan dasar negara yang disampaikan oleh tiga tokoh bangsa, yaitu Muhammad Yamin, Prof. Dr. Mr. Soepomo, dan Ir. Soekarno.

Pada tanggal 18 Agustus 1945, disahkan Undang-Undang Dasar 1945 pada Sidang Panitia Persiapan Kemerdekaan Indonesia (PPKI), termasuk Pembukaan Undang-Undang Dasar 1945. Di dalam Pembukaan Undang-Undang Dasar 1945, termuat isi rumusan Prinsip Dasar Negara yang disebut Pancasila, tepatnya pada alinea IV.

SOAL PILIHAN GANDA KOMPLEK

Berilah tanda centang (✓) pada jawaban yang tepat. Jawaban dapat lebih dari satu.

7. Berdasarkan teks di atas, tokoh bangsa yang ikut merumuskan usulan-usulan dasar negara adalah

- ☐ Muhammad Yamin
- ☐ Mohammad Hatta
- ☐ Mr. Soepomo
- ☐ Ir. Soekarno

SOAL ISIAN SINGKAT

8. Berdasarkan teks bacaan di atas, Undang-Undang Dasar 1945 disahkan pada sidang

Bacalah teks berikut ini untuk menjawab soal nomor 9 dan 10!

Seni Rupa Daerah Indonesia

Seni rupa daerah adalah seni rupa yang terdapat di berbagai daerah di Indonesia. Seni rupa daerah dapat disebut juga seni rupa tradisional karena dikerjakan secara turun-temurun di suatu daerah. Seni rupa daerah dapat berupa seni kerajinan, seni lukis, dan seni patung. Seni kerajinan meliputi seni tekstil (batik, tenun, dan songket), seni anyam, seni ukir, seni keramik. Hasil karya seni tekstil dan seni lukis berbentuk dua dimensi, yaitu memiliki ukuran panjang dan lebar. Hasil karya seni anyam, seni keramik, dan seni patung pada umumnya berbentuk tiga dimensi, yaitu memiliki ukuran panjang, lebar, dan tinggi atau memiliki volume.

SOAL PILIHAN GANDA

9. Berdasarkan teks bacaan di atas, batik, tenun, dan songket termasuk karya seni....
- A. Anyam
 - B. Kriya
 - C. Tekstil
 - D. Ukir

SOAL ISIAN SINGKAT

10. Berdasarkan teks bacaan di atas, hasil karya seni anyam, seni keramik, dan seni patung pada umumnya berbentuk . . .