


Moltiplicazioni

1 Osserva il disegno e completa.



- Quante uova ci sono in ogni confezione?
- Quante confezioni ci sono?
- Quante uova ci sono in tutto?


• Calcola con l'addizione.

$$\square + \square = \square$$

• Calcola con la moltiplicazione.

$$\square \times \square = \square$$

2 Osserva il disegno e completa.



- Quanti cioccolatini in ogni sacchetto?
- Quanti sono i sacchetti?
- Quanti cioccolatini in tutto?


• Calcola con l'addizione.

$$\square + \square = \square$$

• Calcola con la moltiplicazione.

$$\square \times \square = \square$$

3 Quante matite ci sono in tutto?



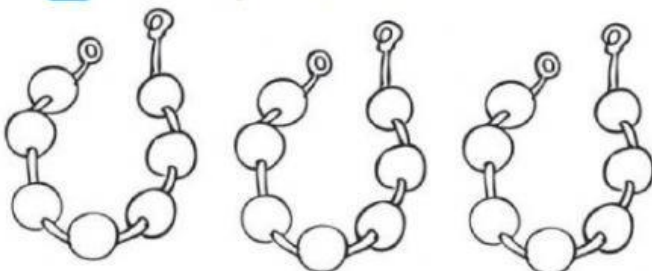
• Calcola con l'addizione.

$$\square + \square + \square = \square$$

• Calcola con la moltiplicazione.

$$\square \times \square = \square$$

4 Quante perline in tutto?



• Calcola con l'addizione.

$$\square + \square + \square = \square$$

• Calcola con la moltiplicazione.

$$\square \times \square = \square$$