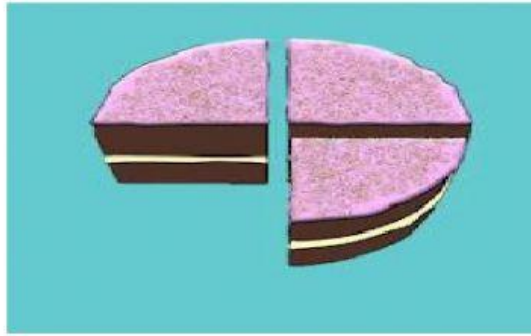


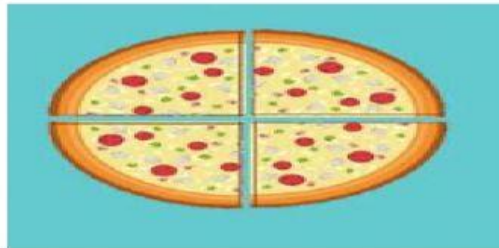
1. Perhatikanlah gambar berikut ini!



Bagian kue yang ada pada gambar di atas yaitu. . .

- A. $\frac{1}{2}$
- B. $\frac{1}{3}$
- C. $\frac{2}{3}$
- D. $\frac{3}{4}$

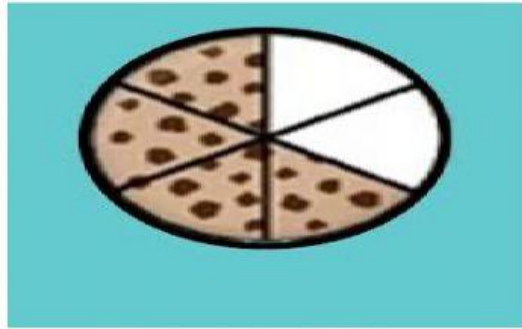
2. Perhatikanlah gambar berikut ini!



Dani ingin memberikan piza kepada 4 orang temannya. Satu bagian diberikan kepada Ahmad, Beni, Cantika, dan Agus. Setiap anak akan mendapatkan. . .bagian

- A. $\frac{2}{3}$
- B. $\frac{3}{4}$
- C. $\frac{1}{4}$
- D. $\frac{2}{4}$

3. Pecahan empat perlima ditulis
4. Pecahan $\frac{5}{7}$ dapat dituliskan
5. Perhatikanlah gambar berikut ini!



Winaya dan Wahyu masing-masing sudah mengambil 1 bagian biskuit. Tersisa biskuit yang ditunjukkan oleh gambar di atas. Sisa biskuit tersebut yaitu...bagian