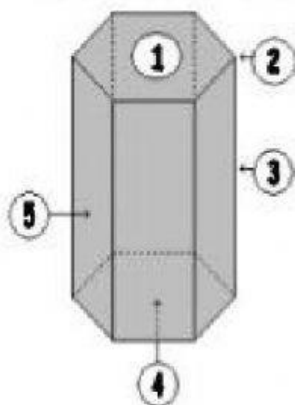


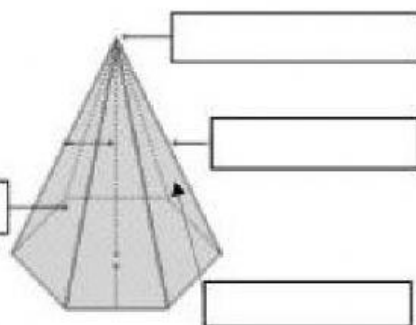
PRIMAS Y PIRAMIDES

I.- Identifica los elementos de un prisma:


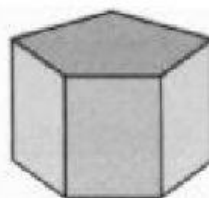

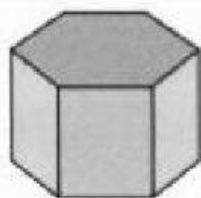


- () Base superior
- () Base inferior
- () Arista
- () Vértice
- () Cara lateral

II.- Escribe el nombre de los elementos de una pirámide



II.- Escribe el nombre de los siguientes cuerpos geométricos:



III.- Analiza los siguientes cuerpos geométricos, ilumina y contesta



1.- Nombre del cuerpo: _____

2.- Número de aristas: _____

3.- Número de vértices: _____

4.- Número de caras laterales: _____



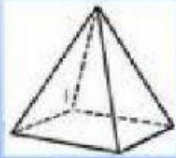
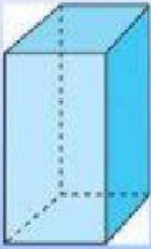
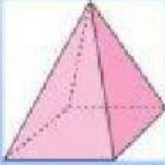

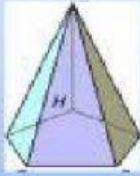

1.- Nombre del cuerpo: _____

2.- Número de aristas: _____

3.- Número de vértices: _____

4.- Número de caras laterales: _____

IV.- Completa el cuadro con la información faltante.

						
Clasificación						
Número de aristas						
Número de caras						
Número de vértices						