


EL VOLUMEN



Observa:

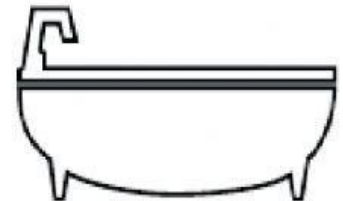
En una llave o en una tabla no podemos meter nada.



Se dice que la llave y la tabla no tienen capacidad.

Escribe tú 4 cosas que no tengan capacidad:

En un vaso o en una bañera podemos meter agua u otras cosas.....

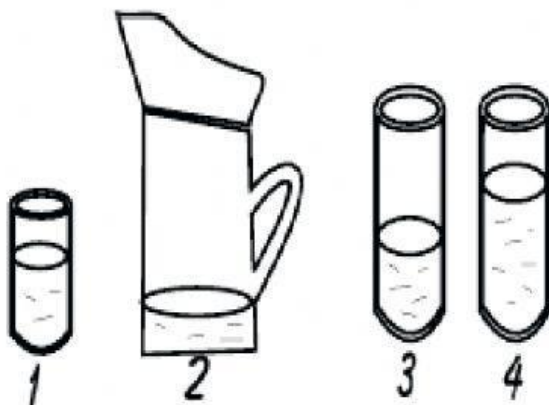


Decimos que el vaso y la bañera tienen capacidad.

Escribe tú 4 cosas que sí tengan capacidad:



Observa estos recipientes y completa :



- El recipiente de mayor capacidad es el nº

- El recipiente de menor capacidad es el nº

- ¿ Tienen la misma capacidad los recipientes nº 3 y nº 4 ?

¿ Por qué ?