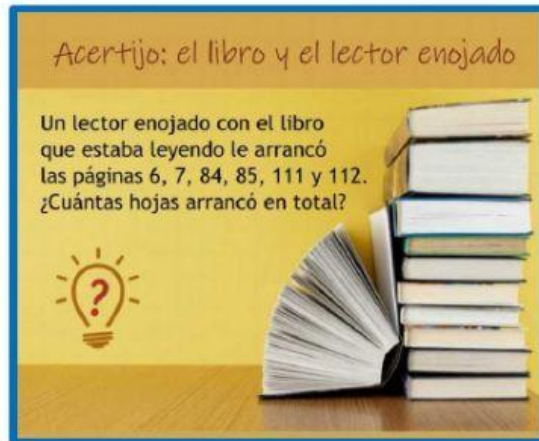


PURA LÓGICA




1. Adivinanzas matemáticas.

Recuerda aplicar toda la lógica

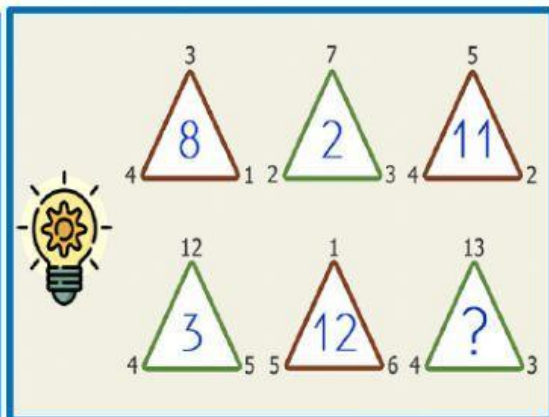


Solución hojas

2. Enigma de cálculo.

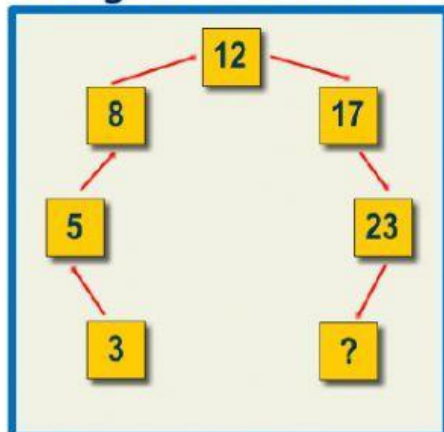


Solución



Solución

3. Enigma de cálculo.



$$\begin{aligned}
 \text{hat} + \text{hat} + \text{hat} &= 35 \\
 \text{hat} + \text{shoe} + \text{bag} &= 23 \\
 \text{shoe} + \text{hat} - \text{bag} &= 13 \\
 \text{hat} + \text{shoe} \times \text{hat} &= ?
 \end{aligned}$$

Solución

Solución

4. Coloca en cada círculo un número del 1 al 9, sin repetirlos, para que los vértices de cada área sumen el número que se muestra.

