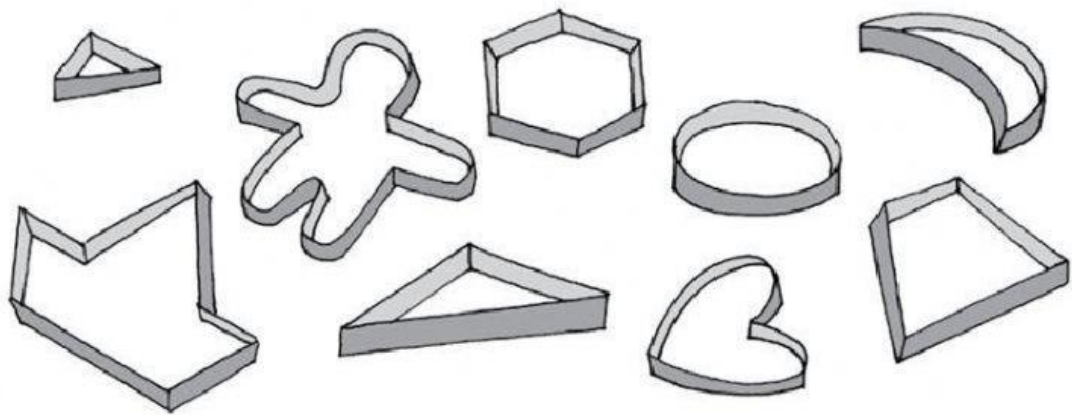



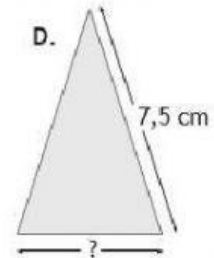

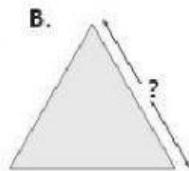
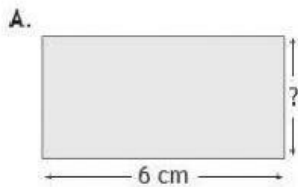
1 Rodea los moldes de galletas que sean polígonos.



Escribe el nombre de cada polígono cuadrilátero.



Todos estos polígonos tienen 18 cm de perímetro. Completa en cada caso la medida del lado que falta.

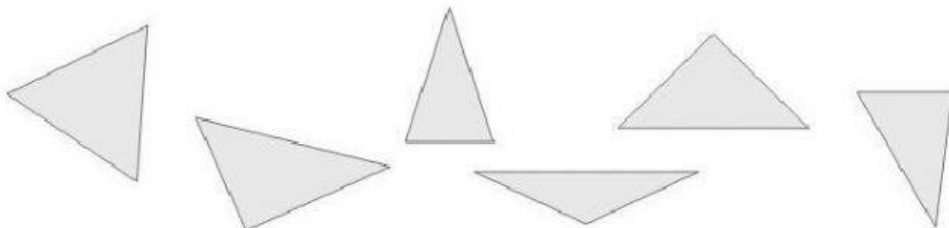


Relaciona cada triángulo con el nombre que le corresponda.

Rectángulo escaleno

Acutángulo equilátero

Acutángulo isósceles



Obtusángulo isósceles

Acutángulo escaleno

Rectángulo isósceles