


PROBABILIDADES




Lee cada caso y elige la probabilidad correcta:


1



¿Cuál es la probabilidad de sacar una bolita verde  ?

Rspta. La probabilidad de sacar una bolita verde  es

2




¿Cuál es la probabilidad de sacar una bolita  azul?

Rspta. La probabilidad de sacar una bolita azul  es

3



¿Cuál es la probabilidad de sacar una bolita amarilla  ?

Rspta. La probabilidad de sacar una bolita amarilla  es



Lee cada caso y elige la probabilidad correcta:


1



¿Cuál es la probabilidad de sacar un pastelillo con fresa  ?

Rspta. La probabilidad de sacar un pastelillo con fresa  es


2




¿Cuál es la probabilidad de sacar un caramelo color azul?

Rspta. La probabilidad de sacar un caramelo de color azul es

3



¿Cuál es la probabilidad de sacar un pan  ?

Rspta. La probabilidad de sacar un pan  es