



Họ và tên: .....

Lớp: 1.....

Thứ.....ngày.....tháng.....năm 20....

**PHIẾU ÔN TẬP GIỮA HỌC KÌ 2**

**Môn: Toán**

**PHẦN I. TRẮC NGHIỆM**

\* Khoanh tròn vào chữ cái trước ý trả lời đúng.

**Câu 1.** Số 75 được đọc là:

- bảy năm       bảy lăm       bảy mươi lăm       bảy mươi năm

**Câu 2.** Số có 8 đơn vị và 6 chục được viết là:

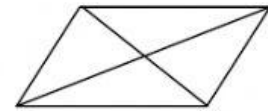
- 806       86       608       68

**Câu 3.** Cho các số: 40, .....,60, ....., 80. Số tròn chục cần điền vào chỗ chấm là:

- 70 và 80       60 và 70       50 và 60       50 và 70

**Câu 4.** Hình bên có:

- 4 hình tam giác       6 hình tam giác  
 8 hình tam giác       10 hình tam giác



**Câu 5.** Điền số thích hợp vào chỗ chấm:  $4 + 3 < \dots - 1 < 9$  là:

- 7       8       9       10

**Câu 6.** Nhà Lan nuôi 2 chục con gà và 5 con gà. Vậy nhà Lan có..... con gà.

- 20 con gà       7 con gà       25 con gà       52 con gà

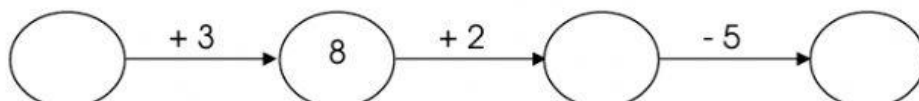

**PHẦN II. TỰ LUẬN**

**Bài 1.** Viếtsốthích hợpvào ô trống:

77	78								86
----	----	--	--	--	--	--	--	--	----

	99			96					
--	----	--	--	----	--	--	--	--	--

**Bài 2.**Số?



**Bài 3.** Điền dấu (>, <, =)?

$4 + 4 \square 6$

$86 \square 86$

$3 + 2 + 5 \square 12$

$20 \square 10 - 2$

$6 + 3 \square 2 + 7 + 1$

$70 \square 10 - 8 + 5$

**Bài 4.** Tính:

a.	$\begin{array}{r} 4 \\ + \\ \hline 6 \end{array}$	$\begin{array}{r} 10 \\ - \\ \hline 5 \end{array}$	$\begin{array}{r} 2 \\ + \\ \hline 7 \end{array}$	$\begin{array}{r} 5 \\ - \\ \hline 3 \end{array}$	$\begin{array}{r} 8 \\ + \\ \hline 2 \end{array}$
	.....	.....	.....	.....	.....

b.  $8 + 2 - 4 = \dots$        $9 - 3 - 3 = \dots$        $7 - 7 + 10 = \dots$

**Bài 5.** Viết phép tính thích hợp vào ô trống:

Có: 5 bạn nữ

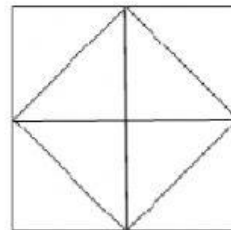
Có: 5 bạn nam

Có tất cả: ..... bạn?

--	--	--	--	--

**Bài 6.** Hình bên có:

- ..... hình tam giác
- ..... hình vuông
- ..... hình chữ nhật

**Bài 7.** Số?

$3 + 3 + \dots = 9$

$10 - 7 + \dots = 7$

$\dots - 4 = 4$

$5 = \dots - 5$

$5 + 4 > \dots > 4 + 3$

$\dots - 1 < 10$

**Bài 8.** Số?

a) Mẹ chia 3 quả bóng bay cho 2 chị em. Chị được ít hơn em. Vậy chị có ..... quả bóng bay. Em có ..... quả bóng bay.

b) Năm nay An 7 tuổi. Vậy:

3 năm trước An ..... tuổi.

3 năm nữa An ..... tuổi.