

# CARBONO

Nombre: \_\_\_\_\_

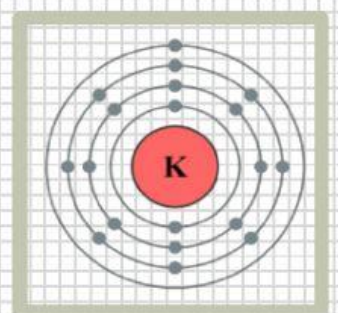
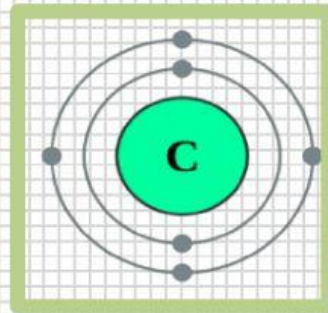
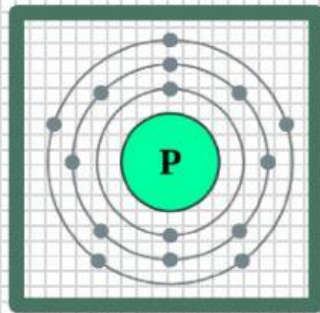
Grado: \_\_\_\_\_

Fecha: \_\_\_\_\_

## Completa el siguiente párrafo:

El (\_\_\_\_\_) es el elemento básico de todos los compuestos (\_\_\_\_\_) que dan origen a la vida. Algunas estimaciones indican que de todas las sustancias (\_\_\_\_\_) conocidas por el ser humano, alrededor de (\_\_\_\_\_) están formadas por (\_\_\_\_\_).

## Selecciona la estructura atómica que pertenece al carbono:



## Escribe V(verdadero) y F(falso según la veracidad de la afirmación:

- \*El grafito y el diamante están compuestos por carbono (\_\_\_\_)
- \*Ningún compuesto orgánico está compuesto de carbono (\_\_\_\_)
- \*El carbono se originó a la par del Big Bang (\_\_\_\_)
- \*Los átomos de carbono no pueden formar enlaces con otros átomos de carbono (\_\_\_\_)
- \*El carbono es el elemento más relevante en la química orgánica (\_\_\_\_)