



**ESCUELA DE EDUCACIÓN BÁSICA PARTICULAR**  
**"NUESTRA SEMILLITA"**  
MACHALA – EL ORO – ECUADOR

**EVALUACIÓN DE MATEMÁTICA**  
**CORRESPONDIENTE AL SEGUNDO QUIMESTRE**

**NOMBRE:** \_\_\_\_\_

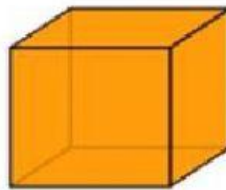
**GRADO:** 2do "B"

**FECHA:** Jueves, 10 de febrero del 2022

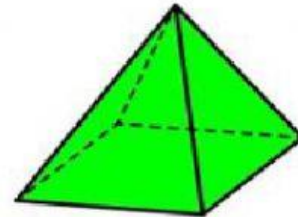
**1) Seleccionar el nombre de cada cuerpo geométrico.**



\_\_\_\_\_



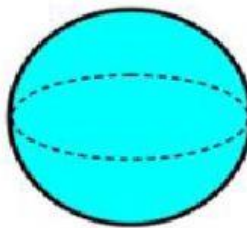
\_\_\_\_\_



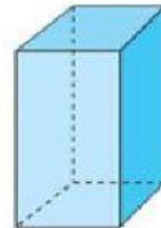
\_\_\_\_\_



\_\_\_\_\_

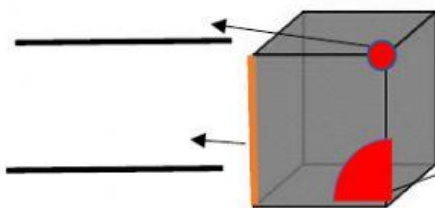


\_\_\_\_\_

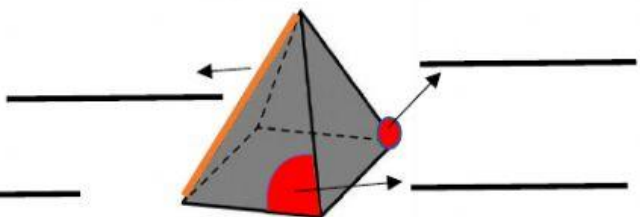


\_\_\_\_\_

**2) Seleccionar los elementos de los cuerpos y figuras geométricas.**

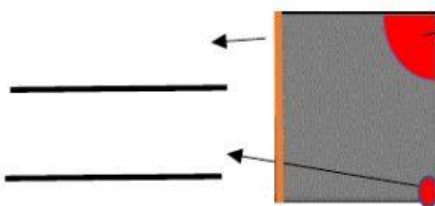


\_\_\_\_\_

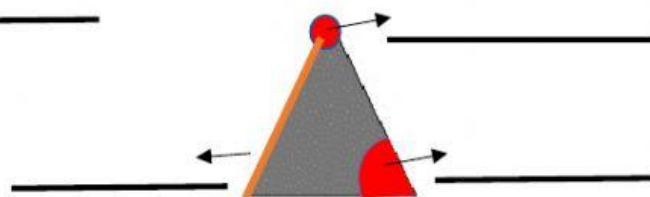


\_\_\_\_\_

\_\_\_\_\_



\_\_\_\_\_



\_\_\_\_\_

\_\_\_\_\_