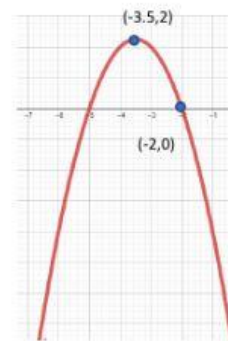
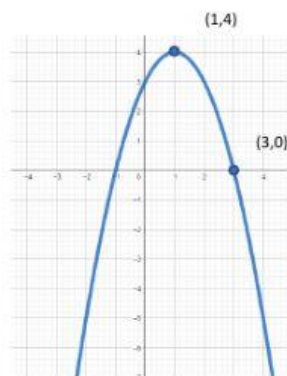
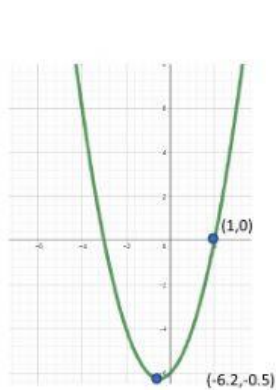


Resuelve las siguientes ecuaciones de segundo grado.

1.  $x^2 - 2x - 15 = 0$
2.  $2x^2 = 2$
3.  $4x^2 + 2x - 7 = 5$
4.  $y^2 + 9y = 8$
5.  $-y^2 - 3y + 10 = -8$

Determina las ecuaciones canónicas de las siguientes parábolas:



Determina las ecuaciones generales de las siguientes parábolas:

