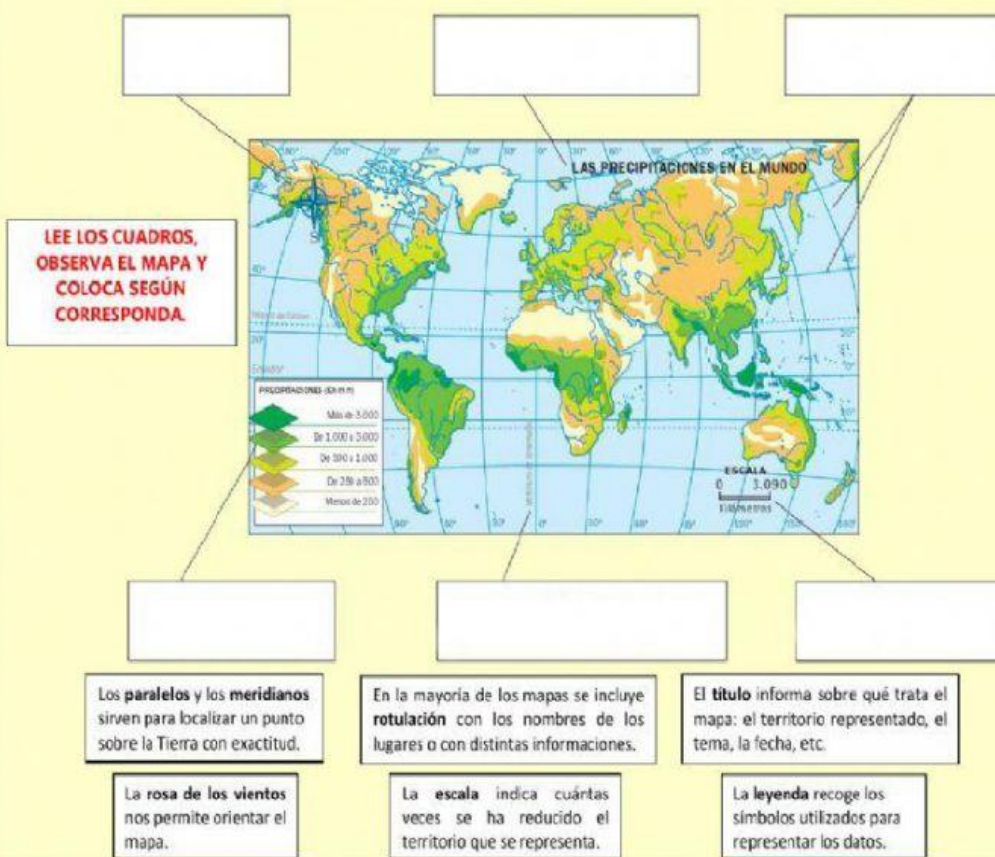





ELEMENTOS DE LOS MAPAS



INDICACIÓN: Selecciona la respuesta correcta.

	SÍ	NO
Los mapas representan la Tierra en su forma real.		
El globo terráqueo tiene forma semejante a la Tierra.		
Los mapas permiten representar grandes y pequeñas superficies.		
El globo terráqueo permite observar los hemisferios oriental y occidental.		

INDICACIÓN: Escribe qué escala de análisis tiene cada mapa

INDICACIÓN: Une con los significados con sus ejemplos.

Norte, sur, este, oeste.
1: 1 000 000
Latitud (norte o sur), longitud (este o oeste).
Símbolos representados en el mapa.

Coordenadas geográficas.
Simbología leyenda.
Rosa de los vientos.
Escala.