



ESCUELA DE EDUCACIÓN BÁSICA "ALONSO DE ILLESCAS"

Barrio: Matilde Álvarez/ Calle Ferdinand N° 555-215 Y Calle 1

Teléfono: 022694546 / 17h00125@gmail.com

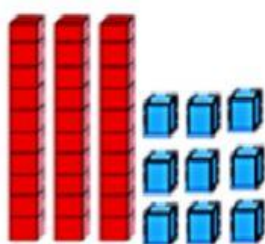
EXAMEN QUIMESTRAL

DATOS INFORMATIVOS

ASIGNATURA	MATEMATICAS	AÑO	2DO A,B,C,D Y E
AÑO LECTIVO	2021- 2022	QUIMESTRE	PRIMERO
NOMBRE			

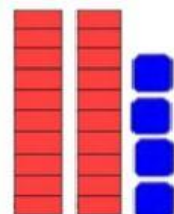
1.- NIVEL DE LOGRO DE APRENDIZAJE

Pregunta 1.- Completa la descomposición de cada número.




→

D	U



→

D	U



→

D	U

Pregunta 2.- Compara y coloca el signo mayor que, menor que e igual según corresponda.



3		8
11		7
12		18

28		18
16		16
21		33

18		8
14		15
35		35



ESCUELA DE EDUCACIÓN BÁSICA "ALONSO DE ILLESCAS"

Barrio: Matilde Álvarez/ Calle Ferdinand N° S55-215 Y Calle 1






Teléfono: 022694546 / 17h00125@gmail.com

Pregunta 3.- Lee y resuelve los siguientes problemas.

En una  hay 27 , el dueño vendió 13 . ¿Cuántas ovejas quedan en la granja?

DATOS	RAZONAMIENTO	OPERACIÓN								
 <input type="text"/>   <input type="text"/> 	Se debe realizar una <input type="text"/>	<table><tr><td>D</td><td>U</td></tr><tr><td><input type="text"/></td><td><input type="text"/></td></tr><tr><td><input type="text"/></td><td><input type="text"/></td></tr><tr><td><input type="text"/></td><td><input type="text"/></td></tr></table>	D	U	<input type="text"/>	<input type="text"/>	<input type="text"/>	<input type="text"/>	<input type="text"/>	<input type="text"/>
D	U									
<input type="text"/>	<input type="text"/>									
<input type="text"/>	<input type="text"/>									
<input type="text"/>	<input type="text"/>									
RESPUESTA	En la  quedan <input type="text"/> 									

 y  cosechan  de la finca de su abuelita:  cosecho 16  y  23 . ¿Cuántas moras cosecharon entre las dos?

DATOS	RAZONAMIENTO	OPERACIÓN								
 <input type="text"/>   <input type="text"/> 	Se realizará una <input type="text"/>	<table><tr><td>D</td><td>U</td></tr><tr><td><input type="text"/></td><td><input type="text"/></td></tr><tr><td><input type="text"/></td><td><input type="text"/></td></tr><tr><td><input type="text"/></td><td><input type="text"/></td></tr></table>	D	U	<input type="text"/>	<input type="text"/>	<input type="text"/>	<input type="text"/>	<input type="text"/>	<input type="text"/>
D	U									
<input type="text"/>	<input type="text"/>									
<input type="text"/>	<input type="text"/>									
<input type="text"/>	<input type="text"/>									
RESPUESTA	Cosecharon <input type="text"/> 									



ESCUELA DE EDUCACIÓN BÁSICA "ALONSO DE ILLESCAS"

Barrio: Matilde Álvarez/ Calle Ferdinand N° S55-215 Y Calle 1

Teléfono: 022694546 / 17h00125@gmail.com

Pregunta 4.- Observa la siguiente imagen y elige la respuesta correcta.



Los están

el interior
el exterior
la frontera

del



La está

el interior
el exterior
la frontera

del



El está

el interior
el exterior
la frontera

del

