

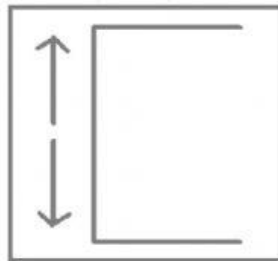

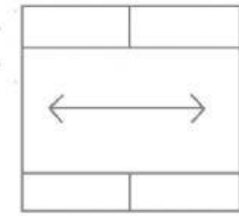




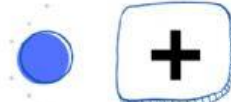
TEKNOLOGI INFORMASI DAN KOMUNIKASI (TIK)

A. Ketiklah pada kotak kosong berikut nama dari masing-masing ikon dengan benar!



B. Hubungkan operasi matematika berikut dengan simbolnya masing-masing!

PERKALIAN



PENJUMLAHAN



PEMBAGIAN



PENGURANGAN



C. Tuliskanlah masing-masing fungsi dari ikon-ikon berikut pada kotak yang kosong!

BORDER

Digunakan untuk
garis cell.

WRAPT TEXT

Digunakan untuk menampilkan teks yang
terlalu panjang ke dalam

Digunakan untuk mengatur
pada cell.

ORIENTATION

Digunakan untuk
dua cell atau lebih.

MERGE & CENTER

D. Tuliskanlah masing-masing fungsi dari operasi berikut dan simbolnya pada kotak yang kosong!

**OPERASI
PERKALIAN**

Digunakan untuk melakukan
nilai-nilai pada cell.
Simbol operasi perkalian

**OPERASI
PEMBAGIAN**

Digunakan untuk melakukan
nilai-nilai pada cell.
Simbol operasi pembagian