


EVALUACIÓN DIAGNÓSTICA MATEMÁTICAS SEGUNDO GRADO

Completa las estrellas con los números.



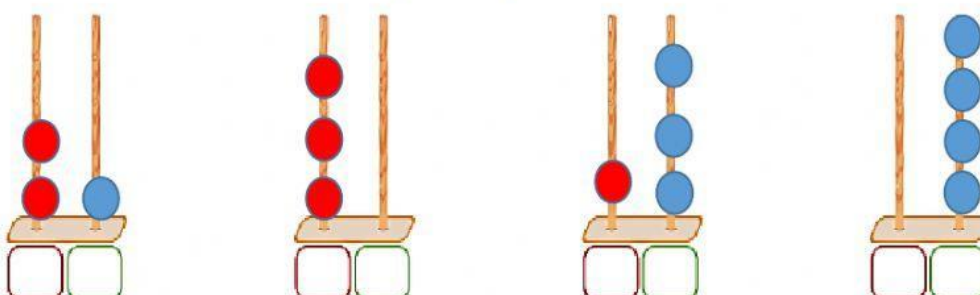
Cuenta los elementos y escribe la cantidad en los círculos.




Escribe los siguientes números según su valor posicional.

25	38	59	81
D	D	D	D
U	U	U	U

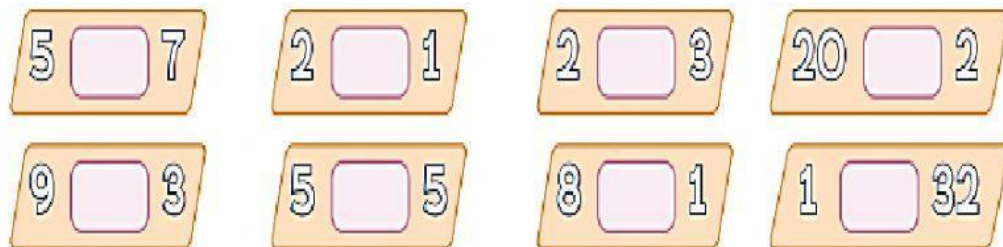
Escribe la cantidad que representada en cada ábaco.



Arrastra los números ordinales siguiendo el orden de la fila.



Elige el símbolo " > " (mayor que) " < " (menor que) o = (igual).



Resuelve las siguientes sumas de forma horizontal.

1 + 2 = 5 + 3 = 7 + 3 = 8 + 4 =

Resuelve las siguientes sumas de forma vertical.

$\begin{array}{r} 4 \\ + 4 \\ \hline \end{array}$	$\begin{array}{r} 9 \\ + 6 \\ \hline \end{array}$	$\begin{array}{r} 15 \\ + 12 \\ \hline \end{array}$	$\begin{array}{r} 22 \\ + 10 \\ \hline \end{array}$	$\begin{array}{r} 32 \\ + 25 \\ \hline \end{array}$	$\begin{array}{r} 24 \\ + 20 \\ \hline \end{array}$
<input type="text"/>	<input type="text"/>	<input type="text"/>	<input type="text"/>	<input type="text"/>	<input type="text"/>

Resuelve las siguientes restas de forma horizontal.

9 - 2 = 8 - 3 = 5 - 1 = 7 - 5 =

Resuelve las siguientes restas de forma vertical.

$\begin{array}{r} 9 \\ - 6 \\ \hline \end{array}$	$\begin{array}{r} 5 \\ - 3 \\ \hline \end{array}$	$\begin{array}{r} 68 \\ - 12 \\ \hline \end{array}$	$\begin{array}{r} 32 \\ - 11 \\ \hline \end{array}$	$\begin{array}{r} 45 \\ - 23 \\ \hline \end{array}$	$\begin{array}{r} 27 \\ - 15 \\ \hline \end{array}$
<div></div>	<div></div>	<div></div>	<div></div>	<div></div>	<div></div>

Une con el lápiz los números del círculo con su respectiva escritura.

5 18 21 11 30

Dieciocho Veintiuno Cinco Treinta Once

Completa los números siguiendo la serie numérica.

