


ظلل النموذج. ثم اكتب الكسر العشري.


3. واحد من عشرة




4. خمسة من عشرة



5. عُشران



6. سبعة أعشار



اكتب ما يأتي على صورة كسر عشري، ثم ارسم كل نقطة على نفس خط الأعداد.

7. ستة من عشرة أجزاء متساوية

8. ثمانية من عشرة أجزاء متساوية

