

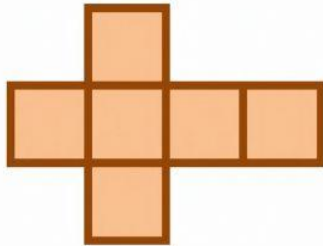
# Jaring-jaring Kubus dan Balok

Nama Siswa: . . . .

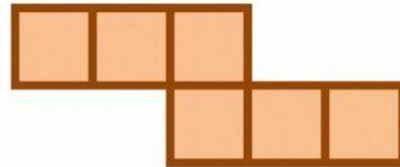
Kelas: . . . .

1. Manakah pada gambar jaring-jaring berikut yang membentuk kubus?

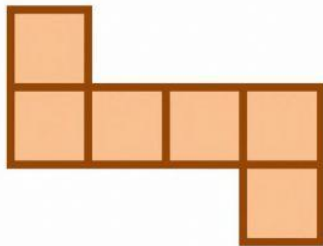
a.



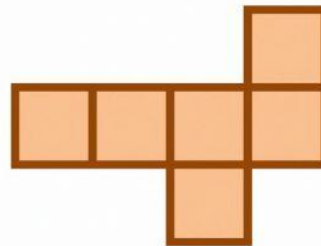
e.



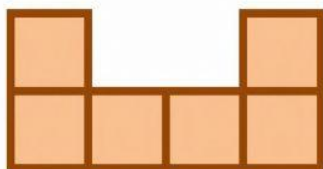
b.



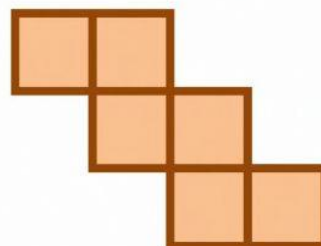
f.



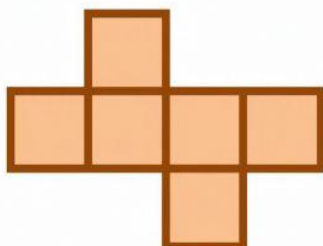
c.



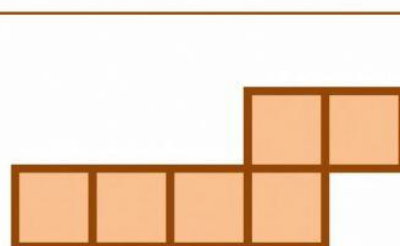
g.



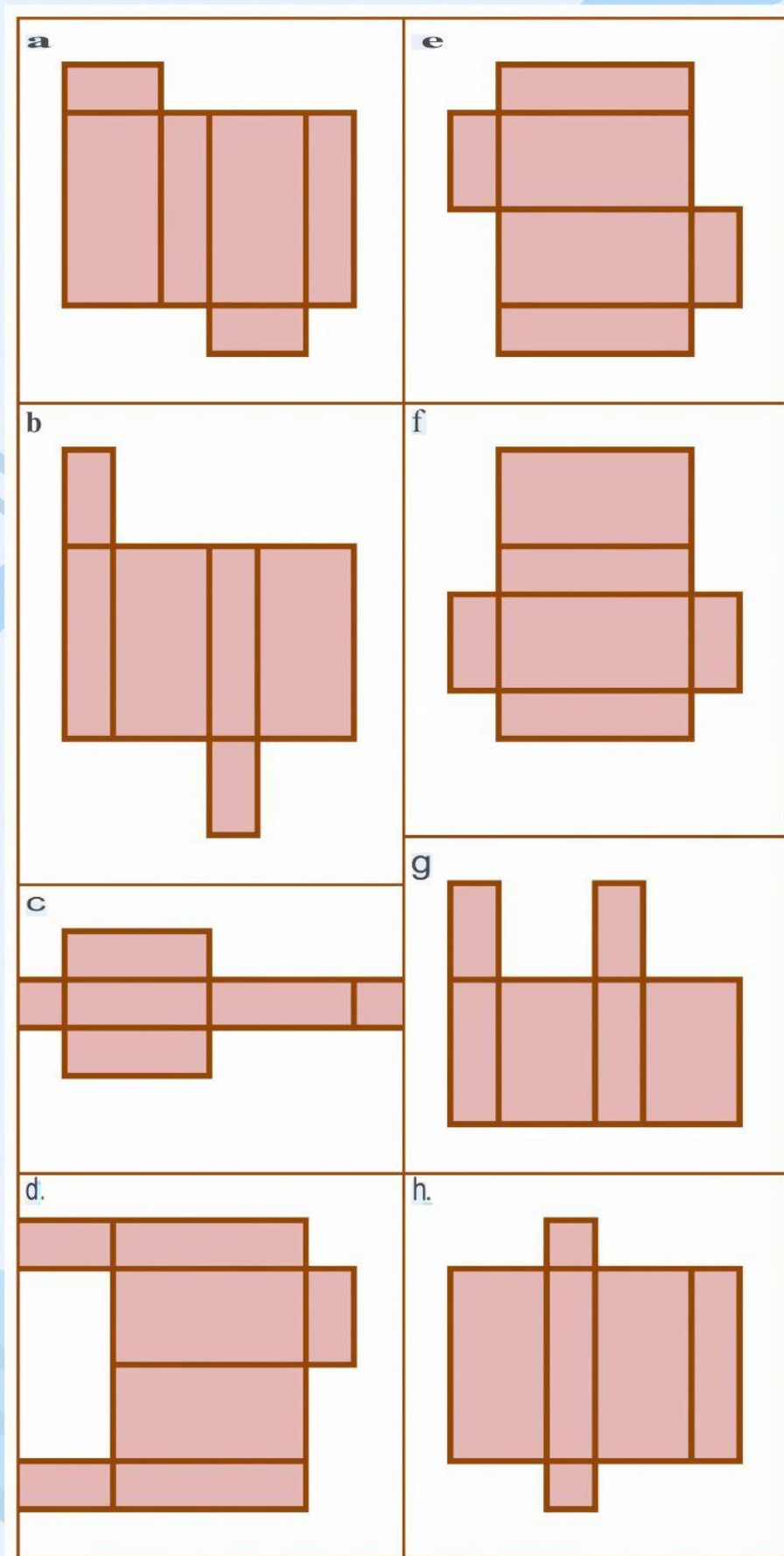
d.



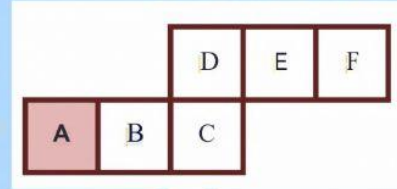
h.



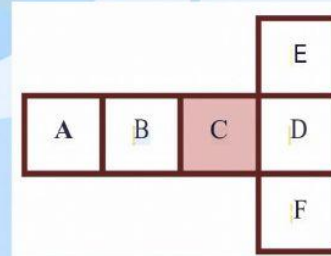
2. Manakah pada gambar jaring-jaring berikut yang membentuk balok?



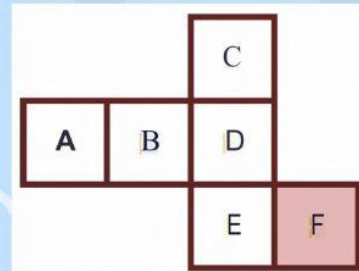
3. Perhatikan jaring-jaring kubus berikut,  
Jika A adalah alas kubus, tutup kubus adalah....



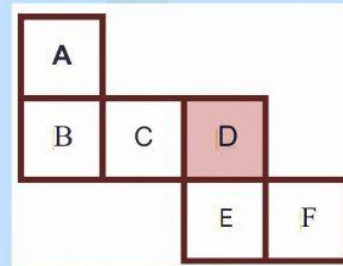
4. Perhatikan jaring-jaring kubus berikut,  
Jika C adalah tutup kubus, alas kubus adalah....



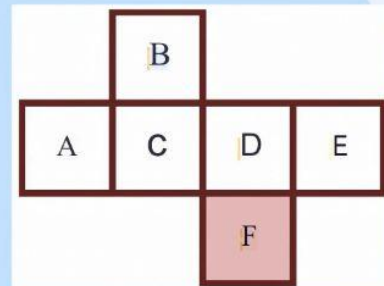
5. Perhatikan jaring-jaring kubus berikut,  
Jika F adalah tutup kubus, alas kubus adalah....



6. Perhatikan jaring-jaring kubus berikut,  
Jika D adalah alas kubus, tutup kubus adalah....



7. Perhatikan jaring-jaring kubus berikut,  
Jika F adalah alas kubus, tutup kubus adalah....



8. Perhatikan jaring-jaring kubus berikut,  
Jika A adalah alas kubus, tutup kubus adalah....

