


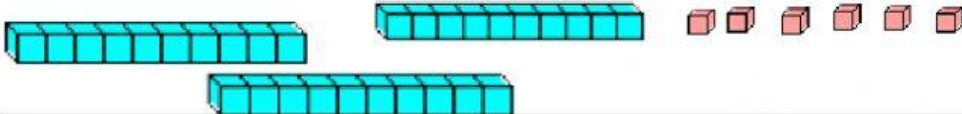


RIPASSO E LOGICA

1)	$10 : 2 =$	
2)	QUALE NUMERO COMPLETA LA SEQUENZA? 1, 2, 3, 1, 2, 3, 1, 2, 3, 1, ____	
3)	12 minus 4	
4)	CERCHIA LA FIGURA CHE RAPPRESENTA UNA LINEA APERTA. 	
5)	$30 + \underline{\quad} = 32$	
6)	QUANTI EURO IN TUTTO? 	
7)	CERCHIA IL NOME DI QUESTA FIGURA. QUADRATO RETTANGOLO TRIANGOLO 	
8)	HAI 12 EURO. NE SPENDI 9 . QUANTI EURO TI RIMANGONO?	
9)	QUANTI QUADRATINI? 	
10)	Sally ha 5 biscotti . Franco ha 6 biscotti. Quanti biscotti in tutto?	
11)	Cerchia l'orologio che mostra le ore undici e trenta. 