


Matemáticas




MAYOR A MENOR

ESCRIBE LOS NÚMEROS EN LOS VAGONES CORRESPONDIENTES
ORDENÁNDOLOS DE MAYOR A MENOR.

3 25 32 15 37 29 35




7 21 37 12 11 24 1



MENOR A MAYOR

ESCRIBE LOS NÚMEROS EN LOS VAGONES, ORDENÁNDOLOS DE MENOR A MAYOR.

33 3 27 18 5 13 38



10 6 14 36 2 16 23

