



ESCUELA DE EDUCACIÓN BÁSICA "EDUARDO KINGMAN"

Sibambe # 510 y Ambato

2-154-409

EXAMEN CORRESPONDIENTE AL SEGUNDO QUIMESTRE

ASIGNATURA: Estudios Sociales

AÑO BÁSICO: 2do A y B

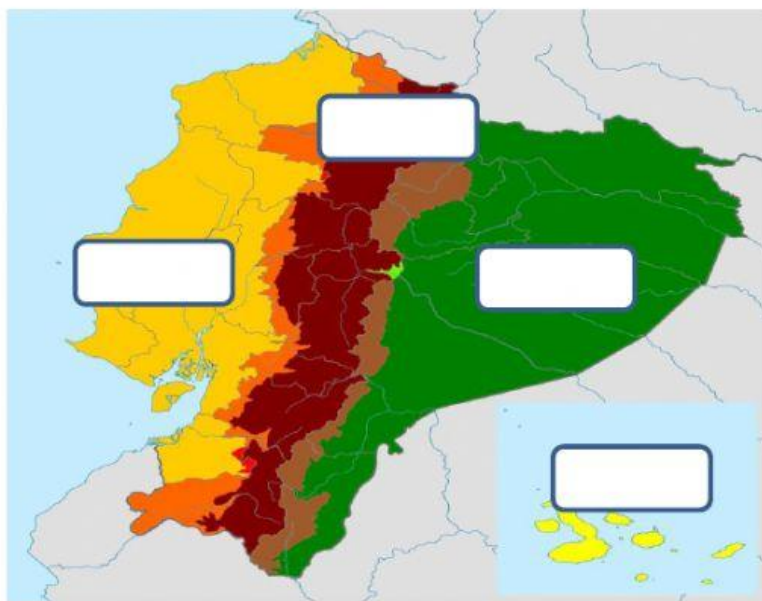
NOMBRE: _____

FECHA: Jueves 24/ Febrero/ 2022

CALIFICACIÓN

FIRMA DEL PROFESOR

1. Arrastra los nombres de las REGIONES del Ecuador según corresponda. (1pt.)



COSTA

SIERRA

ORIENTE

GALÁPAGOS

2.- Selecciona la opción correcta para las siguientes preguntas. (1.50 pt.)

a. La capital del Ecuador es:

GUAYAQUIL

COLOMBIA

QUITO

b. Ecuador está atravesado por una cadena de montañas denominada:

COTOPAXI

CORDILLERA
DE LOS ANDES

QUITO


c. Ecuador está ubicado en:

AMÉRICA DEL
SUR

COLOMBIA

QUITO

3.- Selecciona el nombre del servicio público según corresponda. (2pts.)



4.- Une los materiales que se utilizaron para construir cada vivienda. (1.50pts)



5.- Arrastra los límites del Ecuador según correspondan en el mapa. (1.50pts)

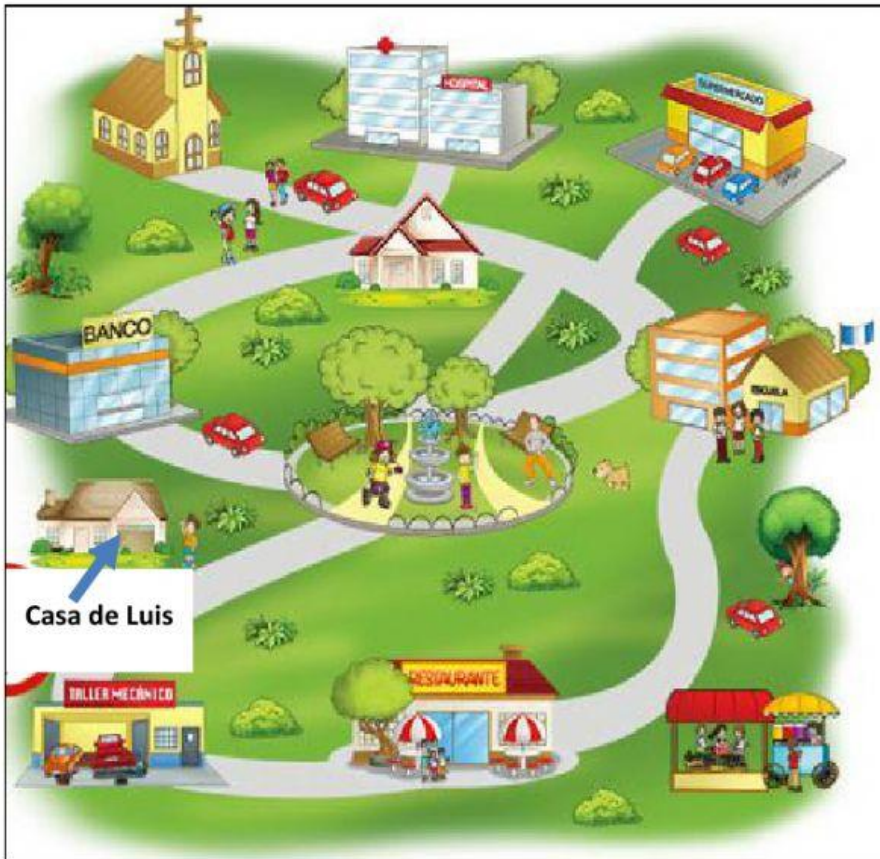
OCÉANO
PACÍFICO

COLOMBIA

PERÚ



6.- Observa la imagen y selecciona la respuesta correcta de las siguientes preguntas (1.50pts)



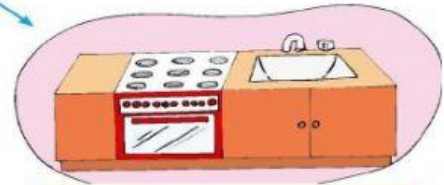
¿Qué está cerca de la casa de Luis?



¿Que está a lado de la iglesia?



7.- Escribe los nombres de las dependencias de la casa usa las palabras del recuadro. (1pts)



Dormitorio - Comedor - Cocina - Baño