
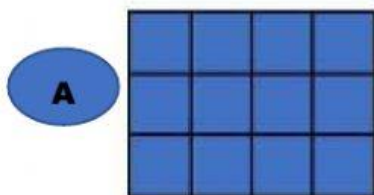


## Practicando lo aprendido con Go Math

1.- Encuentre el perímetro y área, indique qué rectángulo tiene un perímetro mayor.



A: Área = \_\_\_\_ U.C

B: Área = \_\_\_\_ U.C

Perímetro = \_\_\_\_ U


Perímetro = \_\_\_\_ U

El rectángulo \_\_\_\_ tiene un perímetro mayor.

2.- Marque con una x todas las palabras que describen a cada cuadrilátero.

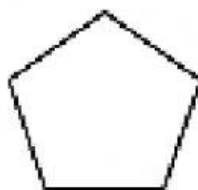


- ☐ Cuadrado
- ☐ Rectángulo
- ☐ Rombo
- ☐ Trapecio



- ☐ Rectángulo
- ☐ Rombo
- ☐ Trapecio
- ☐ Cuadrilátero

3.- Louie tiene una estampilla con esta forma.



Para los ejercicios 3A a 3D, elige Verdadero o Falso para cada enunciado acerca de la figura.

3A) La figura no tiene ángulos rectos. ☐ V ☐ F

3B) La figura tiene 5 ángulos mayores que un ángulo recto.

☐ V ☐ F

3C) La figura tiene 2 ángulos menores que un ángulo recto.

☐ V ☐ F

3D) La figura tiene 1 ángulo recto.

☐ V ☐ F