



UNIDAD EDUCATIVA FISCAL PEDRO BALDA CUCALÓN

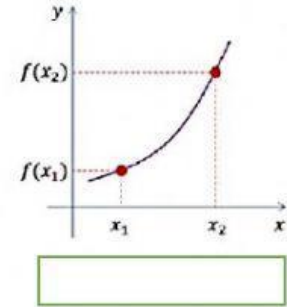
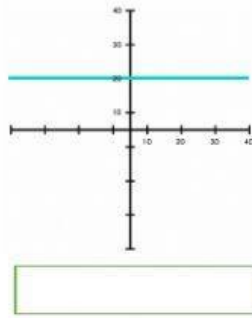
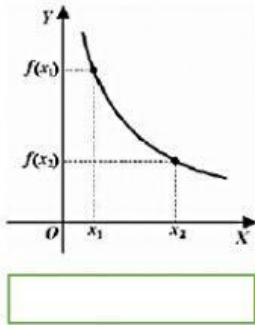
AMIE: 13H02492

Dirección: Calle 300 entre avenida 113 y 4 de noviembre

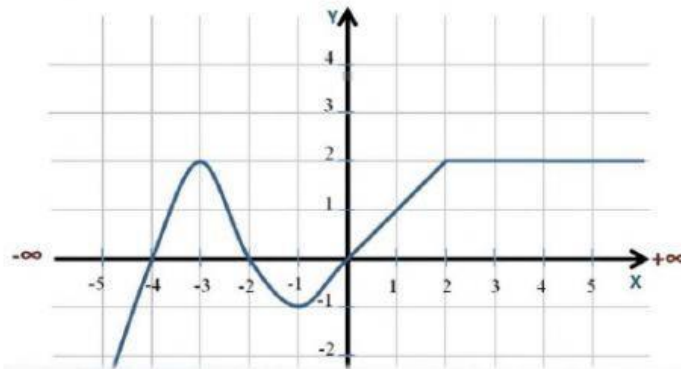
Nombre y apellido: _____ paralelo: _____

La siguiente actividad se realiza con el objetivo de retroalimentar la clase de Funciones de Dominio recorrido, funciones crecientes decrecientes y constante. Se pide revisar el material enviado.

1. Observe las siguientes gráficas, indique cuales son crecientes, decrecientes y constante.



2. Escriba los intervalos de crecimiento, decrecimiento y constante en la siguiente gráfica.



Intervalo de crecimiento

Intervalo de decrecimiento

Intervalo constante

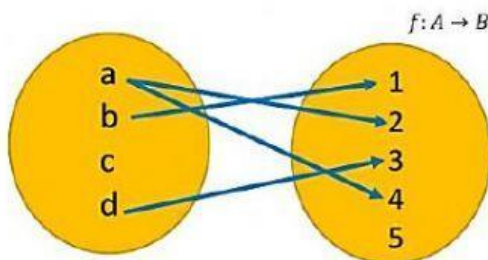
$L_1 = (\quad , \quad)$

$L_1 = (\quad , \quad)$

$L_1 = (\quad , \quad)$

$L_1 = (\quad , \quad)$

3) Escriba el dominio el conjunto de llegada y el rango de la siguiente función.



Dominio { \quad , \quad , \quad }

Rango { \quad , \quad , \quad , \quad }

Conjunto de llegada _____