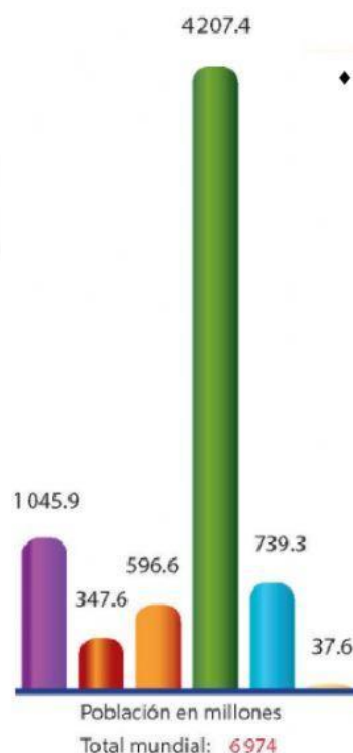
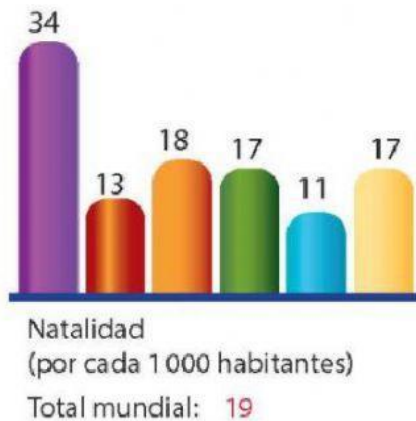


La población mundial y su crecimiento

1.- Analiza las siguientes gráficas y luego contesta lo que se te pide.



♦ Fuente: Organización de las Naciones Unidas. División de Estadísticas. <http://unstats.un.org/unsd/demographic/products/dyb2/htm>

a) Es el continente o región que tiene mayor número de nacimientos:

b) Es el continente o región con mayor índice de mortalidad:

c) Es el continente o región que ocupa el segundo lugar en el número de muertes:

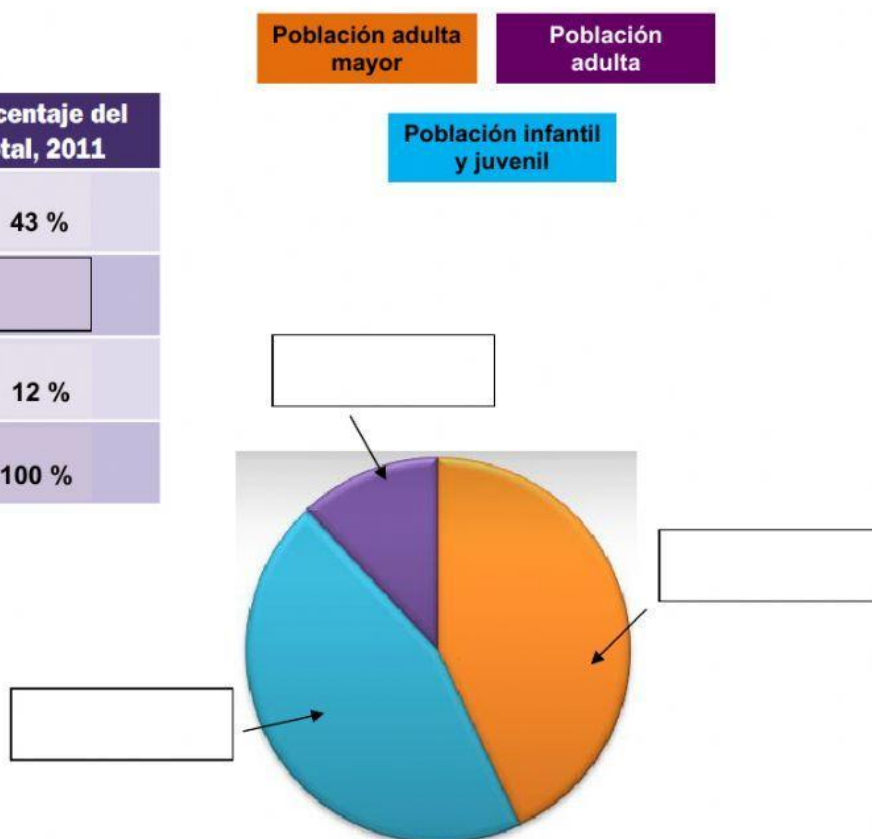
d) Es el continente o región de mayor porcentaje de crecimiento natural:

e) Es el continente o región de menor porcentaje de crecimiento natural:

f) Es el continente o región que presenta menos problemas de sobrepoblación (habitantes por kilómetro cuadrado):

2.- Analiza la información proporcionada y completa la tabla y la gráfica.

Población	Porcentaje del total, 2011
Infantil y juvenil (0 a 24 años)	43 %
Adulta (25 a 59 años)	<input type="text"/>
Adulta mayor (mayor de 60 años)	12 %
Total	100 %



3.- Relaciona ambas columnas.

Servicios básicos que se deben incrementar por el aumento de población en cada país.

Países desarrollados

Países con elevado número de población en América.

Escuelas y hospitales

Tienen un incremento general de población pero con grandes carencias de todo tipo de servicios.

Latinoamérica

Presentan mayor incremento de población adulta mayor.

Países al sur del Sahara

El sureste del continente presenta la mayor densidad de población del mundo.

Asia