



NÚMEROS DECIMALES


1.- Escribe la parte sombreada en forma decimal.



a)




b)




c)




d)




e)




f)




g)



h)



i)



j)

2.-¿Qué número es?

a) $7D + 2U + 5d + 9c \rightarrow$

e) $4U + 8d + 7c \rightarrow$

b) $4U + 3d + 1c \rightarrow$

f) $1D + 1c \rightarrow$

c) $6D + 2d + 4c \rightarrow$

g) $5d + 6c \rightarrow$

d) $8D + 5U + 3c \rightarrow$

h) $9D + 9d \rightarrow$

3.- Escribe con cifras.

a) Quince coma cuarenta y dos \rightarrow

e) Tres unidades y una décima \rightarrow

b) Cinco unidades y una centésima \rightarrow

f) Veinte coma noventa y cinco \rightarrow

c) Ochenta coma treinta y seis \rightarrow

g) Doce coma cero nueve \rightarrow

d) Dos unidades y ocho décimas \rightarrow

h) Nueve unidades y dos décimas \rightarrow

5.- Sitúa en esta recta numérica de los siguientes números:

A = 6,3

B = 5,8

C = 7,1

D = 6,5

E = 3,9

