

**WORKSHEET/SOAL BUKU TEMATIK DAN MATEMATIKA
KELAS 1 TAHUN 2022-2023**

TEMA	DIRIKU
SUBTEMA	1.Aku dan teman baruku
KD	3.1 Menjelaskan makna bilangan cacah sampai dengan 99 sebagai banyak anggota suatu kumpulan objek
Muatan Pelajaran	Matematika

I. berilah tanda (X) pada jawaban yang paling benar

bacaan untuk soal no 1 sampai soal nomor 5

rini ikut pergi ke pasar
ia minta dibelikan jeruk
ibunya membelikan delapan jeruk
ia menghitungnya
sampai hitungan angka ke empat
rini lupa angka selanjutnya

- [illegible]

II. tariklah garis sesuai lambang dan nama bilangannya




• 5

• tiga



• 3

• dua



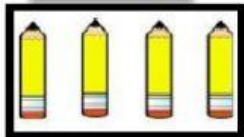
• 2

• sepuluh



• 4

• empat



• 10

• lima

III. isilah titik titik di bawah ini

bacaan untuk menjawab soal soal

rina akan membeli alat tulis
membeli pensil dan penghapus
pensil sebanyak 2
penghapus sebanyak 5
buku juga dibeli sebanyak 6


1. pensil yang dibeli rina sebanyak
2. penghapus yang dibeli rina sebanyak 5 setelah angka lima adalah
3. nama bilangan dari angka 6 adalah
4. jenis alat tulis yang dibeli rina sebanyak
5. nama bilangan yang menunjukkan banyak pensil yang dibeli rina adalah

**WORKSHEET/SOAL BUKU TEMATIK DAN MATEMATIKA
KELAS 1 TAHUN 2022-2023**

TEMA	DIRIKU
SUBTEMA	2.Tubuhku
KD	3.3 Membandingkan dua bilangan sampai dua angka dengan menggunakan kumpulan benda-benda konkret
Muatan Pelajaran	Matematika

I. berilah tanda (X) pada jawaban yang paling benar

perhatikan gambar dibawah ini



- anggota tubuh yang paling sedikit jumlahnya adalah
a.jari b. hidung c. telinga
- anggota tubuh yang paling banyak jumlahnya adalah
a.jari b. hidung c. telinga
- pernyataan yang benar berdasarkan gambar adalah
a.jumlah hidung lebih banyak dari telinga
b.jumlah alis lebih sedikit dari mata
c.jumlah telinga sama dengan jumlah alis
- perbandingan yang benar dari gambar diatas adalah
a. 5 jari lebih banyak dari 10 jari
b. 2 alis sama banyak dari 2 mata
c.2 telinga lebih sedikit dari 1 hidung
- anggota tubuh yang jumlahnya sama banyak adalah....
a.telinga mata alis
b. hidung mata telinga
c.alis mata jari

II. pilihlah benar atau salah dengan memberi tanda ceklis (✓) dari pernyataan di bawah ini berdasarkan gambar

perhatikan gambar di bawah ini



pernyataan	benar	salah
domba lebih banyak daripada burung		
kupu kupu lebih banyak daripada anak anak		
yang paling sedikit adalah sapi		
burung yang didahan sama banyak dengan kupu kupu yang terbang		
pohon lebih banyak dari sapi		

III. isilah titik titik di bawah ini

perhatikan bacaan berikut ini

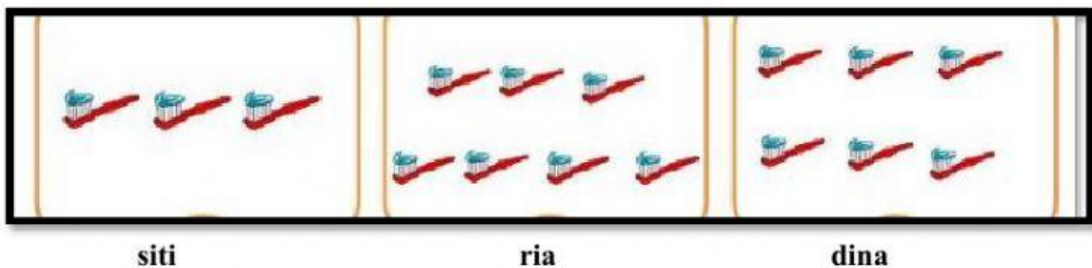
ana mempunyai 3 keranjang buah
 mangga jeruk apel
 apel sebanyak 8
 jeruk sebanyak 10
 mangga sebanyak 5
 setelah dibuka dari keranjang
 ternyata ada buah yang busuk

1. buah yang paling banyak adalah
2. buah yang paling sedikit adalah
3. perbandingan yang sesuai dari bacaan
.... lebih sedikit dari
4. lebih banyak dari mangga
5. ada 5 jeruk yang busuk sehingga
ayah membuang nya maka
banyak jeruk sama dengan

**WORKSHEET/SOAL BUKU TEMATIK DAN MATEMATIKA
KELAS 1 TAHUN 2022-2023**

TEMA	DIRIKU
SUBTEMA	3. Aku merawat tubuhku
KD	3.1 Menjelaskan makna bilangan cacah sampai dengan 99 sebagai banyak anggota suatu kumpulan objek
Muatan Pelajaran	Matematika

I.berilah tanda (X) pada jawaban yang paling benar
perhatikan gambar di bawah ini



- sikat gigi yang paling banyak adalah
a. siti b. ria c. dina
- pernyataan yang benar adalah
a. banyak sikat dari yang paling sedikit adalah dina
b. urutan banyak sikat yang paling sedikit adalah dina ria dan siti
c. urutan banyak sikat dari yang paling terbanyak adalah ria dina dan siti
- urutan yang benar dari sikat yang paling sedikit adalah
a. 3 6 7 b. 7 6 3 c. 3 7 6

perhatikan urutan bilangan di bawah ini

Diagram showing two number lines, labeled a and b. Line a has points at 4, 6, and 8. Line b has points at 6, 7, and 10.

4. bilangan yang tepat untuk melengkapi urutan bilangan yang a adalah
a. 4 dan 8 b. 5 dan 7 c. 8 dan 9
5. urutan bilangan yang b dari terbesar adalah
a. 8 7 6 5 4 b. 6 7 8 9 10 c. 10 9 8 7 6

II. pasangkan dengan menarik garis urutan bilangan dibawah ini

urutan bilangan dari yang paling banyak

3 0 1 4	•	•	10 9 8 7
8 10 9 7	•	•	5 4 2 1
2 1 4 5	•	•	4 3 1 0

lengkapi bilangan pada urutan bilangan di bawah ini

4 ... 6 7 ...	•	•	6 dan 9
... 7 8 ...	•	•	6 dan 8
5... 7 ...9	•	•	5 dan 8

III. isilah titik titik di bawah ini

perhatikan bacaan di bawah ini

zidan mempunyai lima pensil
agus mempunyai dua pensil
ali mempunyai enam pensil
roni mempunyai satu pensil
alat tulis ali lebih dari zidan
sedangkan alat tulis roni kurang dari agus

1. banyak pensil zidan dan ali adalah
2. urutan nama anak pensil yang dimiliki dari yang terbanyak adalah
3. urutan bilangan dari yang terkecil adalah
4. pensil ali patah dua maka pensil utuh yang paling banyak adalah
5. urutan bilangan dari yang terkecil setelah pensil ali patah adalah

**WORKSHEET/SOAL BUKU TEMATIK DAN MATEMATIKA
KELAS 1 TAHUN 2022-2023**

TEMA	DIRIKU
SUBTEMA	4. Aku istimewa
KD	3.4 Menjelaskan dan melakukan penjumlahan dan pengurangan bilangan yang melibatkan bilangan cacah sampai dengan 99 dalam kehidupan sehari-hari serta mengaitkan penjumlahan dan pengurangan
Muatan Pelajaran	Matematika

I. berilah tanda (X) pada jawaban yang paling benar

perhatikan bacaan di bawah ini


piran mempunyai 4 donat
toni mempunyai 2 donat
siti mempunya 3 cokelat
aisyah mempunyai 5 cokelat
piran dan toni memasukkan donat ke kotak
siti dan aisyah memasukkan cokelat ke plastik

1. banyak cokelat dalam plastik adalah
a. 8 b. 9 c. 10
2. banyak donat dalam kotak adalah
a. 5 b. 6 c. 7
3. pasangan bilangan 5 adalah
a. 1 dan 3 b. 2 dan 4 c. 2 dan 3
4. pasangan bilangan banyaknya cokelat keseluruhan adalah
a. 3 dan 4 b. 1 dan 7 c. 4 dan 5
5. piran memakan satu donatnya maka pasangan bilangan dari donat piran sekarang adalah
a. 0 dan 3 b. 1 dan 3 c. 2 dan 3

II. lingkari tanda b(benar) atau s (salah)pada pasangan bilangan




= b / s




= b / s



= b / s



= b / s



= b / s

III. isilah titik titik di bawah ini

perhatikan bacaan di bawah ini

sari mempunyai dua keranjang
keranjang a diisi dengan 6 pisang
keranjang b diisi dengan 4 pisang

1. banyak pisang yang harus di beli sari adalah
2. pasangan bilangan 6 adalah ... dan ...
3. Jika keranjang b dimasukkan lagi 2 pisang maka banyak pisang keranjang b seluruhnya adalah

isilah pasangan bilangan dengan tepat

4.

5	
....	3
....

5.

8	
5
....