

NUMERACIÓN.


FICHA 14. UNIDADES DECIMALES. FRACCIONES DECIMALES.



1. Escucha el vídeo sobre las unidades decimales y aprende:

2. Recuerda.

Las **unidades decimales** se obtienen al dividir 1 unidad en 10, 100 o 1.000 partes iguales.



1 unidad

1 décima
 $\frac{1}{10} = 0,1$

1 centésima
 $\frac{1}{100} = 0,01$

1 milésima
 $\frac{1}{1.000} = 0,001$

1 unidad = 10 décimas 1 unidad = 100 centésimas 1 unidad = 1.000 milésimas

3. Ordena de menor a mayor:

SABER MÁS

Ordena de menor a mayor:

71 décimas
7 unidades
709 centésimas

1

2


3

4. Monedas.

Observa las monedas y completa.

 = 1 céntimo = $1/100 = 0,01$ €

A  = céntimos = — = €

B  = céntimos = — = €

C  = céntimos = — = €

D  = céntimos = — = €

E  = céntimos = — = €

F  = céntimos = — = €

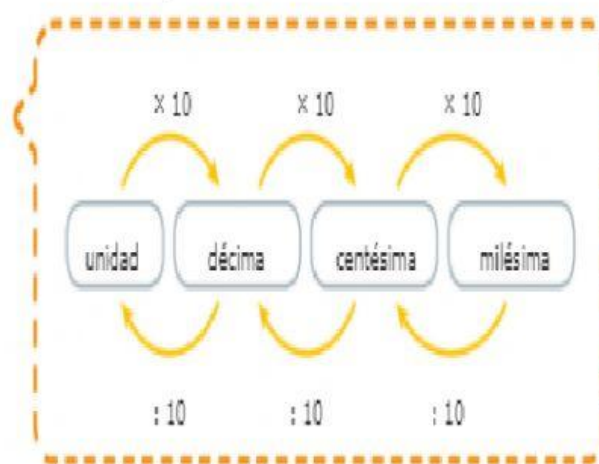


5. Completa.

- 40 décimas = ... unidades
- 70 centésimas = ... décimas
- 50 milésimas = ... centésimas
- 32 décimas = ... unidades y ... décimas
- 96 centésimas = ... décimas y ... centésimas
- 48 milésimas = ... centésimas y ... milésimas

6. Unidades decimales.

Observa cómo se pasa de unas unidades decimales a otras y completa.



1 U = 1 unidad

1 d = 1 décima

1 c = 1 centésima

1 m = 1 milésima



• 2 d = m • 8 d = U • 9 c = d • 4 m = c

• 5 d = c • 18 c = U • 2 c = m • 15 m = d