






## SNACK AL CINEMA

Andrea è andato al cinema con i suoi amici .

Il grafico mostra il numero e il tipo di snack che hanno acquistato. Osserva il grafico e rispondi alle domande.

				
				
				
				
				
Popcorn	Gelato	Coca cola	Hotdog	Patatine fritte

- 1) Quanti sono gli hot dog acquistati ? \_\_\_\_\_
- 2) Quale cibo è stato acquistato di più? \_\_\_\_\_
- 3) Quali sono i cibi acquistati nella stessa quantità? \_\_\_\_\_
- 4) Un bicchiere di coca cola costa 2 € . Quanto hanno speso per comprare 2 bicchieri di coca cola?  
\_\_\_\_\_
- 5) Quanti snack hanno acquistato in tutto? \_\_\_\_\_