
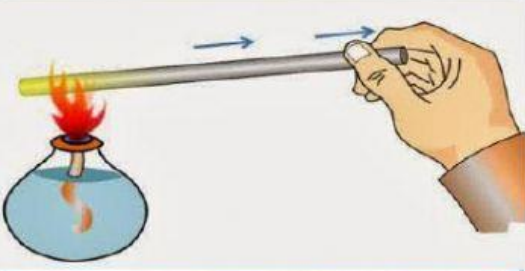




PERPINDAHAN KALOR

Lengkapi bagian ruang yang kosong dalam tabel dengan menjawab apakah gambar tersebut termasuk dalam contoh : Konduksi / Konveksi / Radiasi.

| NO. | GAMBAR | JENIS PERPINDAHAN KALOR |
|-----|---|--|
| 1 |  | <input data-bbox="1002 622 1348 763" type="text"/> |
| 2 |  | <input data-bbox="1002 958 1348 1099" type="text"/> |
| 3 |  | <input data-bbox="1002 1256 1348 1397" type="text"/> |
| 4 |  | <input data-bbox="1002 1599 1348 1740" type="text"/> |

5



6



7



8

| | |
|--|--|
| | <p>Angin Darat</p> <ul style="list-style-type: none"> • Angin bergerak dari darat ke laut • Terjadi pada malam hari • Nelayan pergi berlayar ke laut |
| | <p>Angin Laut</p> <ul style="list-style-type: none"> • Angin bergerak dari laut ke darat • Terjadi pada siang hari • Nelayan pulang ke daratan |



9



10.

