



ESCUELA DE EDUCACIÓN BÁSICA PARTICULAR
"NUEVA SEMILLITA"
MACHALA – EL ORO – ECUADOR

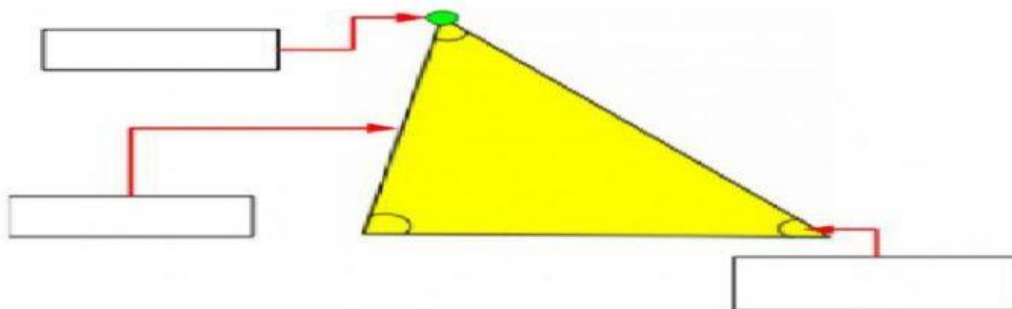
EVALUACIÓN DE MATEMÁTICA
SEGUNDO PARCIAL DEL SEGUNDO QUIMESTRE

NOMBRE: _____

GRADO: 2do "B"

FECHA: Jueves 27 de enero del 2022

1) Elegir los elementos de las figuras según indica la flecha:



2) Ordenar los días de la semana.

1

2

3

4

5

6

7

LUNES

MARTES

MIÉRCOLES

JUEVES

VIERNES

SÁBADO

DOMINGO



Profa Mar.C

3) Completar la siguiente información:

- La semana tiene _____ días.
- El año tiene _____ meses.

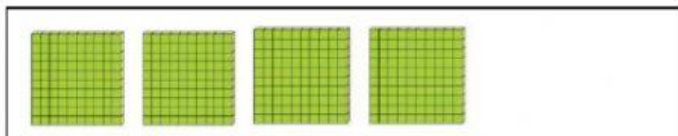


ESCUELA DE EDUCACIÓN BÁSICA PARTICULAR
"NUEVA SEMILLITA"
MACHALA – EL ORO – ECUADOR


4) Unir la centena con la cantidad que corresponda.



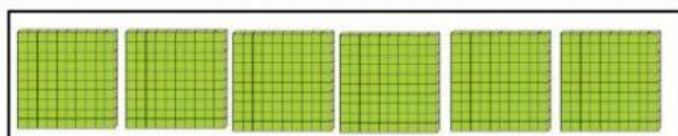
100



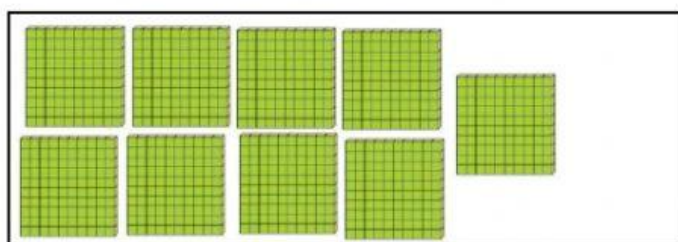
200



400



900



600

5) Seleccionar los nombres de los cuerpos geométricos.

