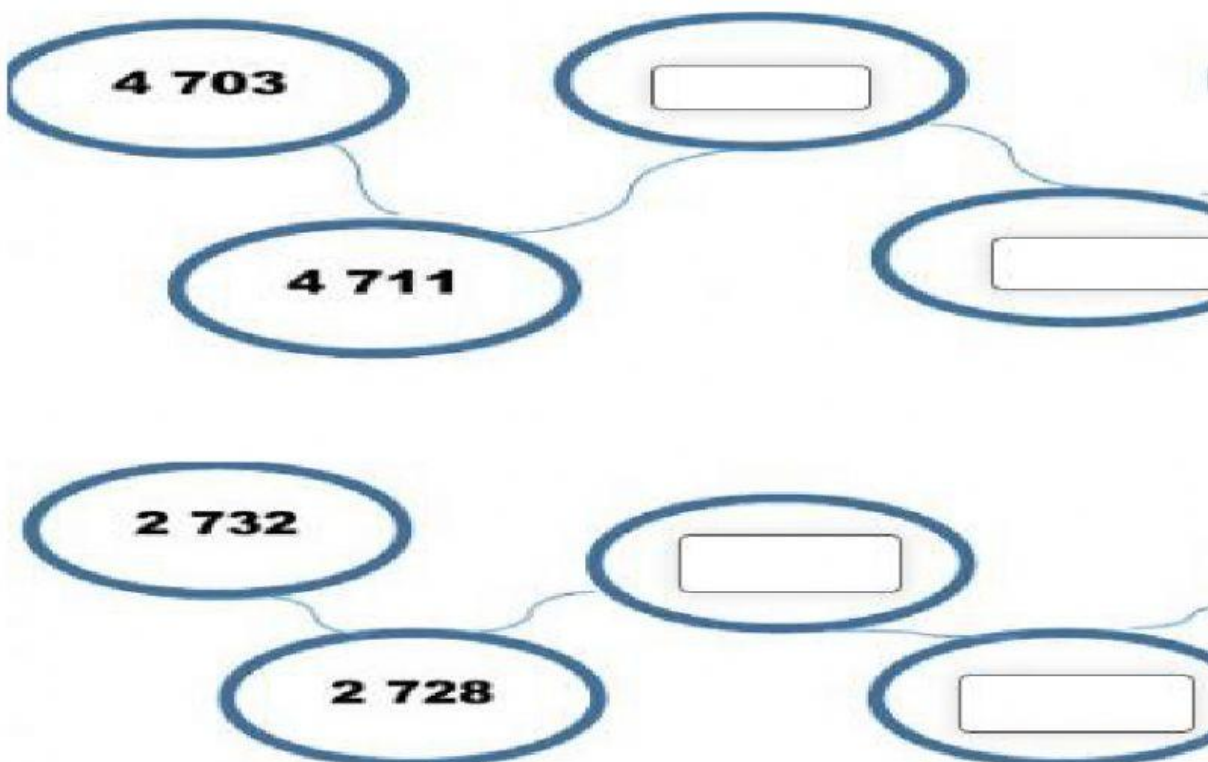

	EEB "9 DE JULIO EVALUACIÓN I QUIMESTRE REFLEXIÓN DE LOS APRENDIZAJES	DISTRITO 17D 10 CAYAMBE PEDRO MONCAYO AÑO LECTIVO 2021 - 2022
---	---	--

SUBNIVEL:	Elemental	GRADO / CURSO:	4TO "D"
ÁREA:	Matemática	ASIGNATURA:	Matemática
DOCENTE:	LCDA.VERÓNICA FLORES		
ESTUDIANTE:		FECHA:	
CALIFICACIÓN / 10			

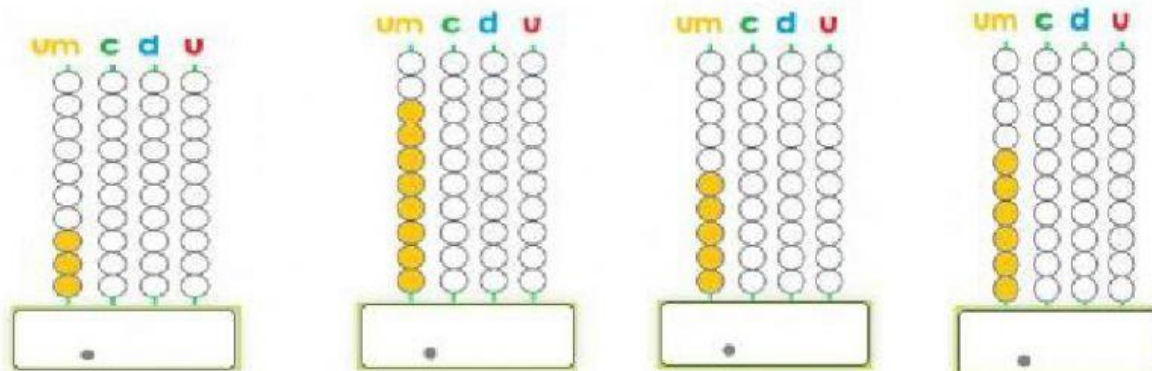
INDICACIONES:
<p>El ejercicio individual de reflexión permite al estudiante evidenciar la comprensión sobre los temas fundamentales de la asignatura, trabajados durante el quimestre, para ello, el estudiante realizará una reflexión sobre la base de preguntas orientadoras elaboradas por el docente. <i>(Tomado de: Instructivo de evaluación estudiantil, Régimen Sierra-Amazonía 2021-2022, p. 8).</i></p>
Se incluyen preguntas:
* Actividades en las que se evalúa los niveles de logro de aprendizajes equivale al 40% (2 primeras preguntas)
* Metacognición equivalente al 60% (6 últimas preguntas)

1.- Analice y complete la secuencia de patrones numéricos



	EEB "9 DE JULIO EVALUACIÓN I QUIMESTRE REFLEXIÓN DE LOS APRENDIZAJES	DISTRITO 17D 10 CAYAMBE PEDRO MONCAYO AÑO LECTIVO 2021 - 2022
---	---	--

2.- Escriba la cantidad que representa en el ábaco



3.- Escriba los siguientes números en la tabla de valor posicional

4.250	UM	.	C	D	U
7.891		.			
5.103		.			
1.078		.			

4.- Realiza la composición y descomposición de las siguientes cantidades

$2.000 + 400 + 60 + 2$	<input type="text"/>
$8.000 + 300 + 70 + 1$	<input type="text"/>
2.517	<input type="text"/>
5.774	<input type="text"/>

5.- Escriba los signos ($>$; (mayor que) $<$ (menor que) ; $=$ (igual) en las siguientes cantidades

5.452	<input type="text"/>	6.890
1.902	<input type="text"/>	354
7.231	<input type="text"/>	7.239
6.401	<input type="text"/>	6.401