

BATALLA NAVAL DE JAMBELI

EJERCICIO INDIVIDUAL DE REFLEXIÓN DE LOS APRENDIZAJES

PRIMER QUIMESTRE

Nombre: _____

Grado/Curso: _____

Asignatura: Matemática

- **Indicaciones generales**

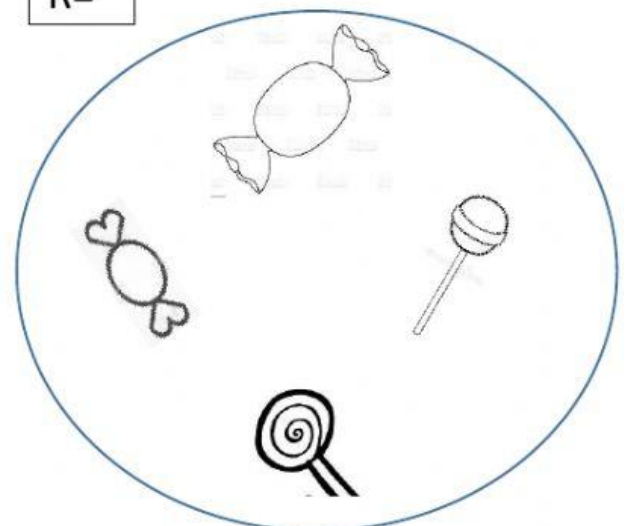
- Lea con atención y seleccione las respuestas correctas.
- Realice la evaluación sin ayuda de un adulto lo hara con la maestra Tutora

I. Desarrollo

1.- Observamos los elementos, los arrastramos al lugar donde corresponda dentro del ovalo y forme un conjunto.




R=



BATALLA NAVAL DE JAMBELI

2.- En la ilustración se observan animales que pueden ser agrupados por sus características comunes, escriba los nombres de los animales dentro de las llaves.



A=

P
C
T
B

3.- Observa: escribe las siguientes cantidades y ubícalas en la tabla posicional:

50	
----	--

d	u

20	
----	--

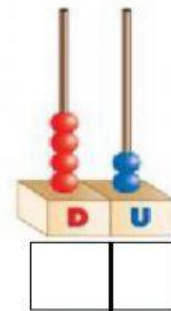

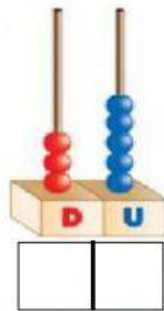
d	u

40	
----	--

d	u

BATALLA NAVAL DE JAMBELI

4.-Escriba los números que representan los ábacos con las decenas y unidades correspondientes.

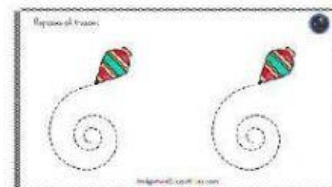
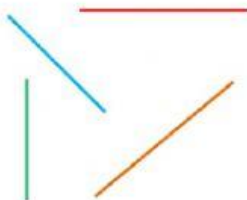


5.- Arrastre el signo según corresponda.

45	<input type="text"/>	90
80	<input type="text"/>	70
65	<input type="text"/>	65

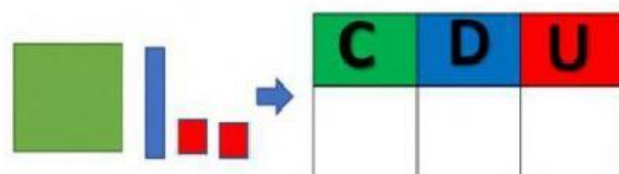
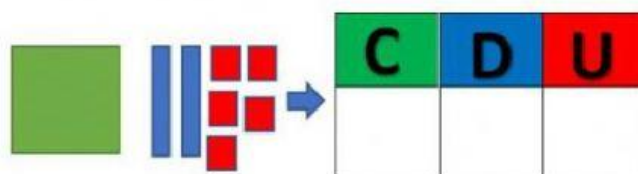
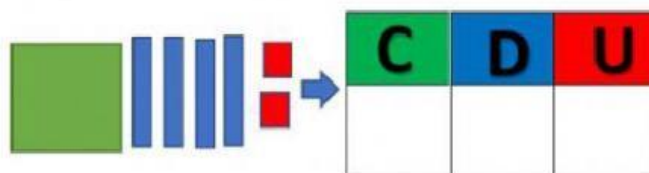


6.- Seleccione el nombre correcto de los tipos de líneas
Elija la opción correcta,



BATALLA NAVAL DE JAMBELI

7.- Escriba según corresponda



8.- Escriba V si es verdadero y F si es falso

El número 320 es $<$ 123

El número 100 es $>$ 500

El número 245 es $>$ 123

El número 598 es $<$ 600

BATALLA NAVAL DE JAMBELI


9.- Relaciona el nombre de las siguientes figuras geométricas según corresponda.



Cuadrado



Triángulo



Rectángulo

10.- Elije el nombre correcto de los siguientes ángulos.

