
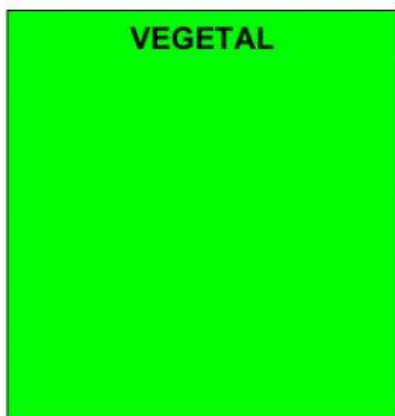
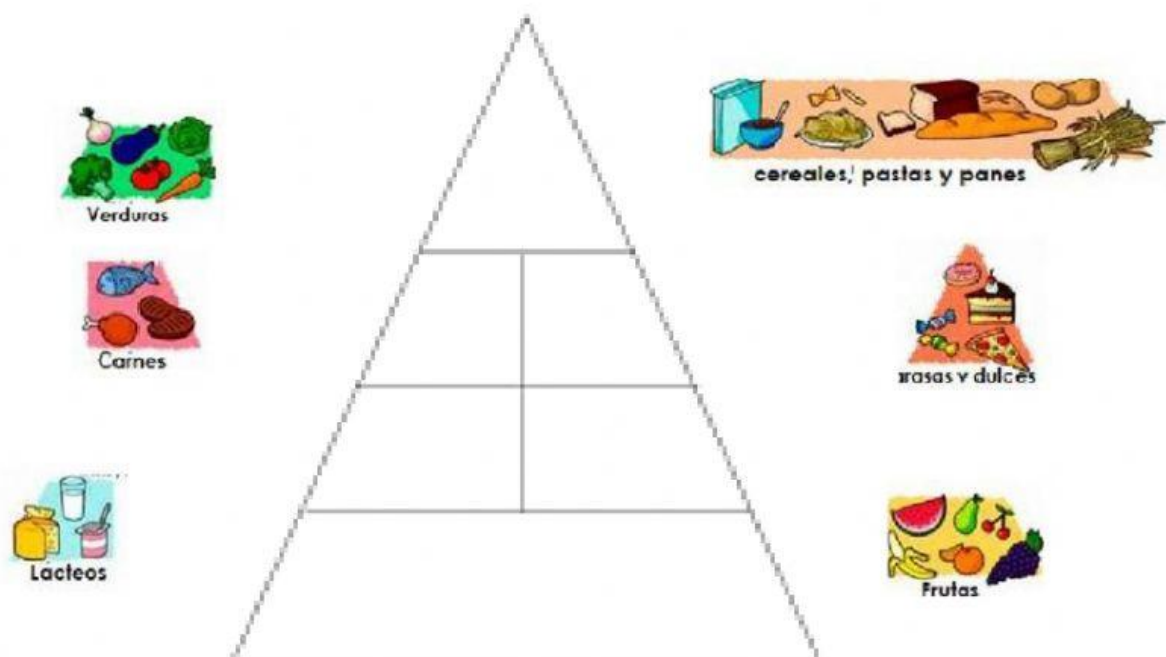
	INSTITUCIÓN EDUCATIVA FISCAL “CALDERÓN 2” EXAMEN QUIMESTRAL DE CIENCIAS NATURALES
NOMBRE:	
GRADO:	2º _____
FECHA:	____/ 01/ 2022

1. Coloca el alimento según el origen. (1 punto)



2. Completa la pirámide con sus respectivos alimentos (1 punto)



3. Relaciona el objeto con su fuente de energía. (1 punto)

ELECTRICIDAD



GASOLINA



4. Une el reloj con su respectiva hora. (1 punto)



CINCO Y CUARTO

TRES EN PUNTO

OCHO Y MEDIA



METACOGNICIÓN:

5. Escoge la respuesta correcta. (4 puntos)

¿Aprender a leer la hora te sirve para aplicarlo en las situaciones de la vida?



¿Para mantener una vida saludable que alimentos debes consumir?



AUTORREGULACIÓN: (2 puntos)

6. Reflexiona acerca de lo que aprendiste. Señala donde corresponda

	Lo hago bien	Lo hago a veces puedo mejorar	Necesito ayuda para hacerlo
Leo las horas en punto y media y las y cuarto del reloj.			
Identifico los alimentos saludables y comida chatarra.			
Reconozco el tipo de energía que utilizan los diferentes objetos para funcionar.			
Conozco de donde se originan los alimentos			