

ESCUELA PARTICULAR CASIODORO DE REINA  
EVALUACIÓN DEL 2DO QUIMESTRE SEGUNDO PARCIAL  
CUARTO DE BÁSICA (COMPUTACIÓN)

NOMBRES Y APELLIDOS:

I- Responda la respuesta correcta

Excel   Columnas   Celdas   Filas

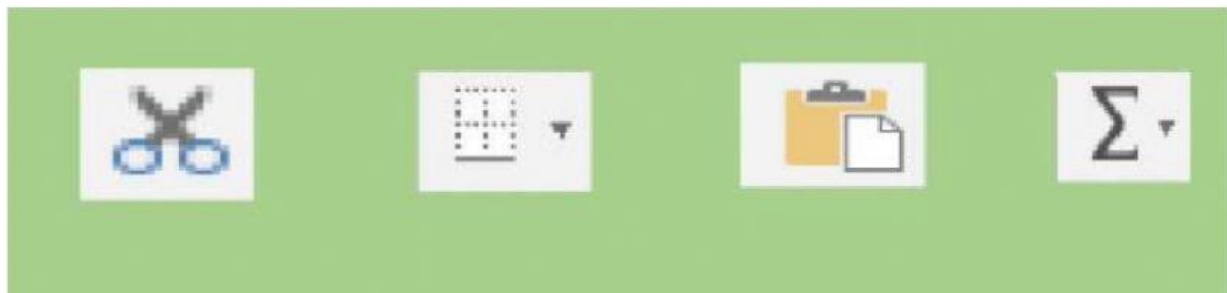
Programa informático que permite realizar tareas contables y financieras

Se ubican de forma horizontal

Estas se ubican de forma vertical

Intersección de una columna y una fila

2) SELECCIONAR EL ICONO DE LA AUTOSUMA



3

ESCRIBE

(3 pts)

el nombre correcto de cada celda . Observa el ejemplo.

Ejemplo



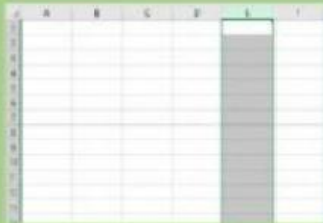
B5

Input boxes for labeling the colored cells:

- Cell B5: B5
- Cell D4: [ ]
- Cell C9: [ ]
- Cell B13: [ ]

**ESCUELA PARTICULAR CASIODORO DE REINA**  
**EVALUACIÓN DEL 2DO QUIMESTRE SEGUNDO PARCIAL**  
**CUARTO DE BÁSICA (COMPUTACIÓN)**

4.- **Observa** las siguientes imágenes y **escribe** dentro del recuadro cuál pertenece a:  
**Celda, Columna, Fila (3 pts)**



5.- **Selecciona** la fórmula correcta para resolver la suma y la resta de las siguientes imágenes. (2 pts)

**SUMA**

	A	B	C	D
1				
2				
3				
4		126		
5		78		
6				
7				

**RESTA**

	A	B	C	D
1				
2				
3				
4				
5			234	
6			123	
7				
8				