



**ESCUELA DE EDUCACIÓN BÁSICA PARTICULAR
"NUEVA SEMILLITA"**
MACHALA – EL ORO – ECUADOR



**EVALUACIÓN DE ESTUDIOS SOCIALES
SEGUNDO PARCIAL DEL SEGUNDO QUIMESTRE**

NOMBRE: _____

GRADO: 2do "B"


FECHA: Martes, 25 de enero del 2022

1) Seleccione el casillero de las instituciones que prestan ayuda en caso de desastres naturales.



2) Lea con atención las frases y seleccione lo correcto.

Un **DERECHO** de los niños y niñas en la escuela es:



Una RESPONSABILIDAD de los niños y niñas en la escuela es:



3) Observe la imagen y seleccione el semáforo peatonal correcto para que las personas puedan cruzar la vía.



a.)



b.)





ESCUELA DE EDUCACIÓN BÁSICA PARTICULAR
"NUEVA SEMILLITA"
MACHALA – EL ORO – ECUADOR

4) Una con líneas según corresponda.



Juegos infantiles

Prohíbe el ingreso de peatones

Más adelante hay un paso cebra

5) Ubique el significado correcto de cada color del semáforo.

Precaución

Seguir

Detenerse

