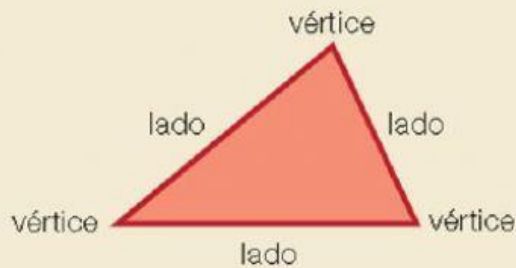


Matemáticas Repaso

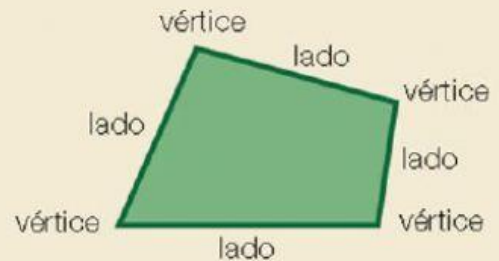
TRIÁNGULOS Y CUADRILÁTEROS

Observa estos polígonos.

TRIÁNGULO




CUADRILÁTERO



- Un triángulo es un polígono que tiene **3** lados y **3** vértices.
- Un cuadrilátero es un polígono que tiene **4** lados y **4** vértices.

1. Elige qué tipo de polígono es y el nombre de la figura. En la última figura una vértice y lado donde corresponda.






vértice

lado

Matemáticas Repaso

2. Completa la tabla según el número de lado y vértices y contesta.

			
LADOS	<input type="text"/>	<input type="text"/>	<input type="text"/>
ÁNGULOS	<input type="text"/>	<input type="text"/>	<input type="text"/>

El c _____, el r _____ y el r _____
 tienen 4 lados y _____ vértices. Son _____.

3. Resuelve estas operaciones.

$325 + 175$	$111 + 409 + 24$	$8 + 532 + 48$	$325 - 175$
C D U	C D U	C D U	C D U
<input type="text"/>	<input type="text"/>	<input type="text"/>	<input type="text"/>
<input type="text"/>	<input type="text"/>	<input type="text"/>	<input type="text"/>
<input type="text"/>	<input type="text"/>	<input type="text"/>	<input type="text"/>
<input type="text"/>	<input type="text"/>	<input type="text"/>	<input type="text"/>
<input type="text"/>	<input type="text"/>	<input type="text"/>	<input type="text"/>
<input type="text"/>	<input type="text"/>	<input type="text"/>	<input type="text"/>

$\begin{array}{r} 93 \\ \times 3 \\ \hline \end{array}$	$\begin{array}{r} 42 \\ \times 8 \\ \hline \end{array}$	$\begin{array}{r} 91 \\ \times 6 \\ \hline \end{array}$	$\begin{array}{r} 78 \\ \times 6 \\ \hline \end{array}$
---	---	---	---