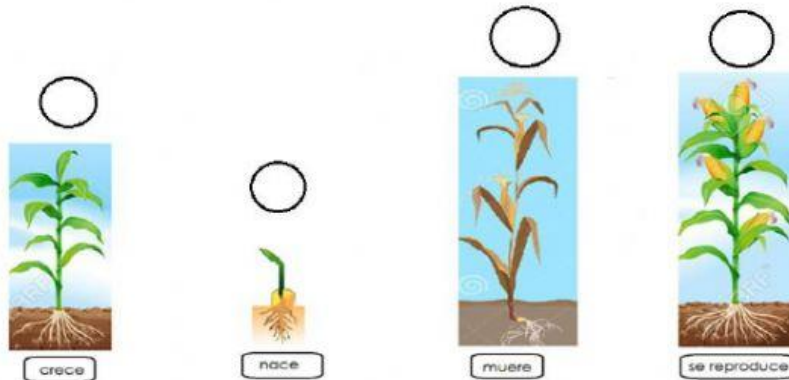





EVALUACIÓN PRIMER QUIMESTRE TERCEROS AÑOS
CIENCIAS NATURALES

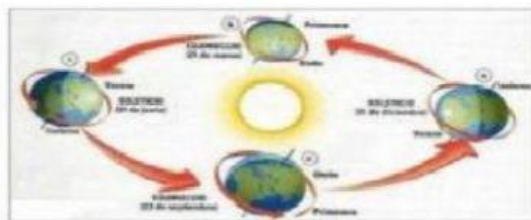
1.- Escriba los números del 1 al 5 en el orden que cumple el ciclo de vida de la planta



2.- Ponga una X en los gráficos que no cumplen con las normas de higiene



3.- Observe las imágenes y arrastra el tipo de movimiento que realiza la Tierra.



ROTACIÓN

TRASLACIÓN





4.- Seleccione la respuesta correcta

<p>EL SOL</p> 	<p>El sol es ...</p>	<p>Una estrella</p> <p>Un planeta</p> <p>Un Astro</p>
	<p>Tiene luz propia....</p>	<p>Verdadero</p> <p>Falso</p>
<p>LA TIERRA</p> 	<p>La Tierra es....</p>	<p>Una estrella</p> <p>Un planeta</p> <p>Un Astro</p>
	<p>Tiene luz propia</p>	<p>Verdadero</p> <p>Falso</p>
<p>LA LUNA</p> 	<p>La luna es ...</p>	<p>Una estrella</p> <p>Un planeta</p> <p>Un Astro</p>
	<p>Tiene luz propia...</p>	<p>Falso</p> <p>Verdadero</p>



5.- Arrastre la imagen y coloque donde corresponda

Verano	Otoño
Primavera	Invierno

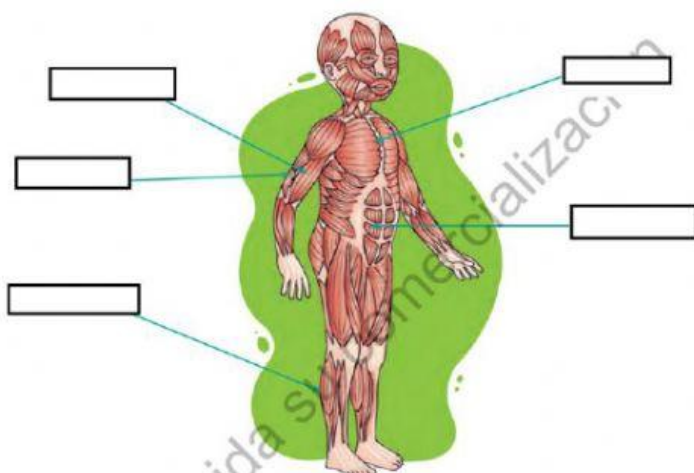




6.- Escriba la palabra **VIVO O INERTE** según corresponda

			
<input type="text"/>	<input type="text"/>	<input type="text"/>	<input type="text"/>
			
<input type="text"/>	<input type="text"/>	<input type="text"/>	<input type="text"/>

7.- Arrastre y ubique en el lugar que corresponda cada palabra



- gemelos
- abdominal
- bíceps
- tríceps
- pectoral



8.- Lea y escriba las palabras que faltan



Es el sentido de _____,
nos sirve para ver y su órgano
es _____.



Es el sentido de _____,
nos sirve para escuchar y su
órgano es _____.



Es el sentido de _____,
nos sirve para percibir sabores y
su órgano es _____.



Es el sentido de _____,
nos sirve para percibir aromas y
su órgano es _____.



Es el sentido de _____,
nos sirve para percibir texturas
y su órgano es _____.

la vista

el tacto

oído

la lengua

el olfato

los ojos

la piel

el oído

el gusto

la nariz



9.- Trazar una línea para unir el nombre con el hueso del cuerpo humano

Cráneo

Costillas

húmero

Esternón


**Columna
vertebral**

Fémur





10.- Observe la imagen y arrastre la palabra al lugar correspondiente



muñeca

cintura

tobillo

rodilla

cuello

codo

hombro