

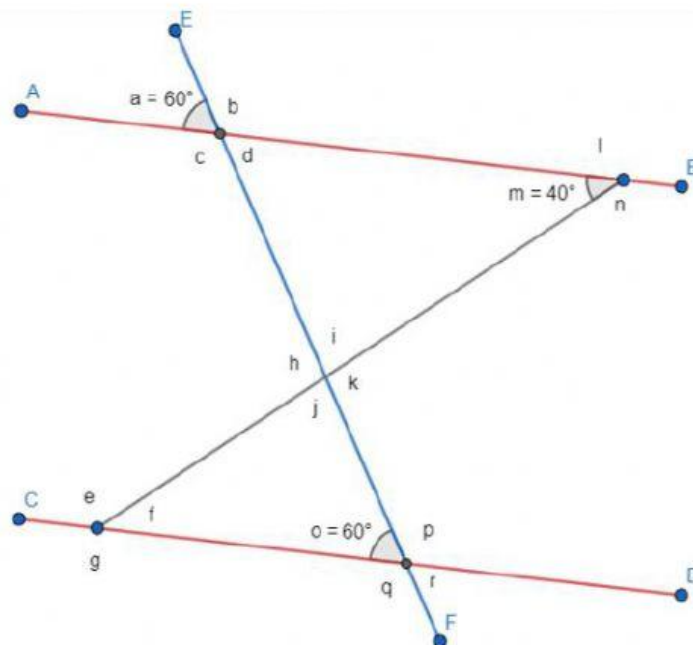
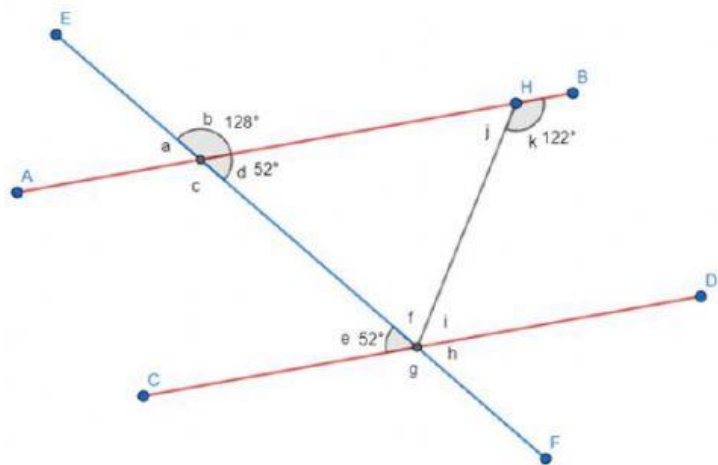
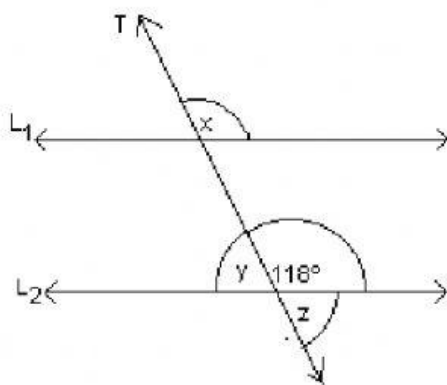


# FIGURAS Y CUERPOS

## ANGULOS ENTRE PARALELAS CORTADAS POR UNA TRANSVERSAL

NOMBRE: \_\_\_\_\_

1. ¿CUÁNTO ES LA SUMA DE LOS ÁNGULOS INTERNOS DE UN TRIÁNGULO?
2. REGISTRA LA MEDIDA DE CADA UNO DE LOS ÁNGULOS DE LOS SIGUIENTES EJERCICIOS.





3. OBSERVA LAS SIGUIENTES IMÁGENES Y REGISTRA EL NOMBRE CORRESPONDIENTE DE CADA UNO DE LOS ÁNGULOS QUE SE MUESTRAN.

