



| | | | |
|---------------------------------------------------------------------------------------------------------------------------------------------------------------------------------------------------------------------------------------------------------------------------------------------------------------|-------------------------------------------------------|-------------------------------------|-----------------------------------|
| Nivel: Preparatoria | Área / Asignatura: Relaciones Lógica matemáticas | | Año Lectivo: 2021-2022 |
| Curso: Primero | Paralelo: "B" | Quimestre: PRIMER QUIMESTRE | |
| Docente: Lic. Diana Lema | | | |
| ESTUDIANTE: | | Fecha: | |
| INSTRUCCIONES GENERALES: | | | |
| <ul style="list-style-type: none"> - Antes de contestar, escuche atentamente las indicaciones. - Solo deberán responder la evaluación una sola vez ya que se tomará en cuenta solo la primera entrega. - Si tiene alguna inquietud pregunte a la maestra. - Éxitos. | | | |
| Prueba de fin Parcial <input type="checkbox"/> | Examen quimestral <input checked="" type="checkbox"/> | Supletorio <input type="checkbox"/> | Remedial <input type="checkbox"/> |

- ✚ M.1.4.1. Reconocer los colores primarios: rojo, amarillo y azul; los colores blanco y negro y los colores secundarios, en objetos del entorno.

1.- Una con líneas las frutas y colores






✚ M.1.4.3. Reconocer la derecha e izquierda en los demás

2.- Seleccione las imágenes que se dirijan a la derecha.



3.- Seleccione las imágenes que se dirijan ala izquierda.





- ✚ M.1.4.4. Distinguir la ubicación de objetos del entorno según las nociones arriba/abajo, delante/atrás y encima/debajo.

4.- Seleccione a la persona que está encima de la mesa.



5.- Seleccione la imagen que está detrás de la casa.






- M.1.4.6. Agrupar colecciones de objetos del entorno según sus características físicas: color, tamaño (grande/pequeño), longitud (alto/bajo y largo/corto).

6.- Seleccione las personas más altas.




7.- Observe y seleccione el gusano largo .



- M.1.4.9. Describir y reproducir patrones con cuerpos geométricos





8.- Según el patrón geométrico arrastre la figura donde corresponde.





✚ M.1.4.14. Identificar cantidades y asociarlas con los numerales 1 al 10 y el 0.


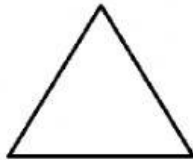

9.-Observe y cuente los conjuntos y una con líneas según el numeral que corresponde .





✚ M.1.4.19. Reconocer cuerpos geométricos en objetos del entorno.

10.- Observe las figuras geométricas y una con líneas según corresponda.



ELABORADO Y REVISADO POR:

Lic. Diana Lema

DOCENTE

Lic. Paola Inca

**COORDINADORA DE
AREA**

CERTIFICADO Y APROBADO POR:

Lic. Diana Lema
**TUTOR
PTE. JUNTA DE CURSO**

Msc. Silvia Freire
RECTORA

ENLACE: