




Colegio Buonarroti

Educación Básica - Bachillerato Unificado

AÑO LECTIVO 2021-2022

EVALUACIÓN QUIMESTRAL CIENCIAS NATURALES



NOMBRE: _____ GRADO: TERCERO E.G.B

FECHA: _____ DOCENTE: Wendy Romero

"Dime y lo olvido, enséñame y lo recuerdo, involúcrame y lo aprendo". -Benjamín Franklin -

INDICACIONES GENERALES: 1. No debes conversar con tus compañeros al momento de realizar la evaluación.

1. Ordena el proceso de la germinación



2. **Completa el siguiente enunciado**

el sol

abióticos

crecen


mueren

Los seres no vivos son también conocidos como seres_____

El clima, _____ temperatura, el aire y el agua son seres abióticos.

Los seres bióticos nacen, _____, reproducen y _____.

3. **Observa los siguientes ecosistemas y selecciona la respuesta correcta**



1. 4. Une con líneas a los animales vertebrados con su clasificación.



anfibios


Peces

Mamíferos


réptiles

aves

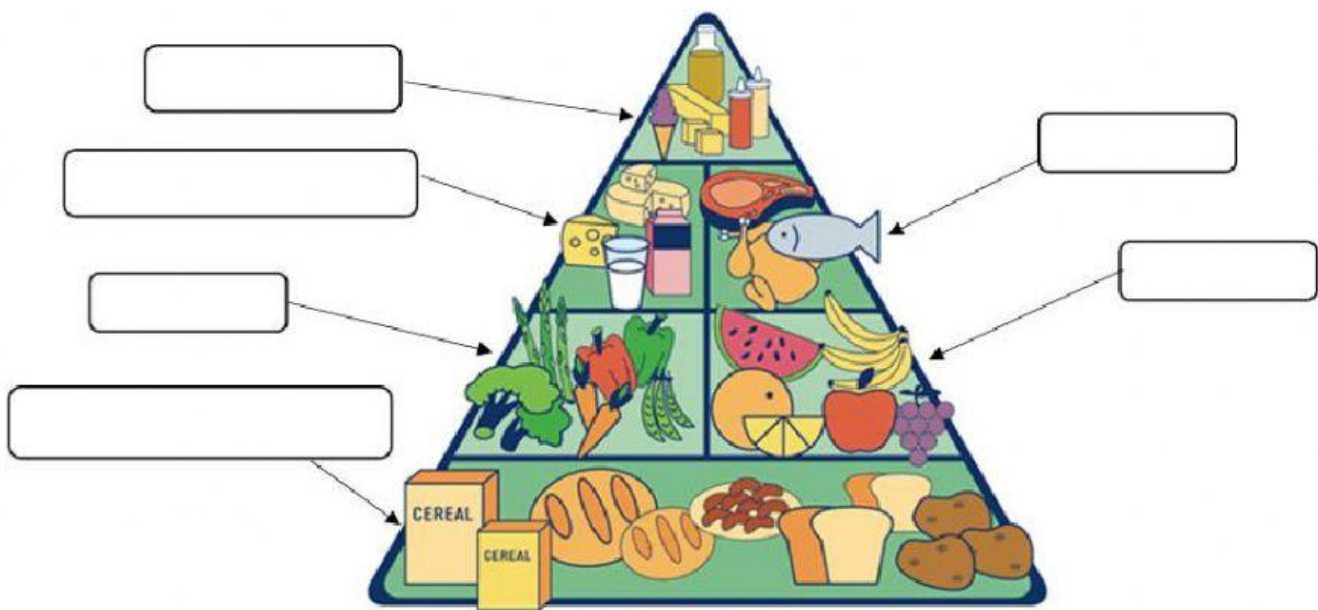
5. Arrastra los elementos que necesita la planta para elaborar la fotosíntesis



6. Escribe las partes de la planta



7. Arrastra y pega los grupos de alimentos en el lugar que corresponde.



frutas

carnes

Leche y sus derivados

verduras

Panes, pastas y cereales

Dulces y grasas

8. Relaciona las etapas del desarrollo con sus características

Infancia

Desde el nacimiento a los 6 años



Niñez

De los 6 a 12 años



Adolescencia

De los 12 a 18 años



Adultez

De los 25 a 60 años



Vejez

Disminuye la fuerza física y cambios emocionales



9. Une según corresponda

Es del tamaño del puño. Su función es bombear sangre todo el cuerpo.



Son los conductos por donde viaja la sangre



Es la sustancia líquida de color rojo.



ELABORADO POR:	REVISADO POR:	REPRESENTANTE	ESTUDIANTE
Lic. Wendy Romero			
			
FIRMA	FIRMA	FIRMA	FIRMA