



SUMAS. Números hasta el 10.

Cuenta y completa.



3 y  son .

+  =




y  son .

+  =



y  son .

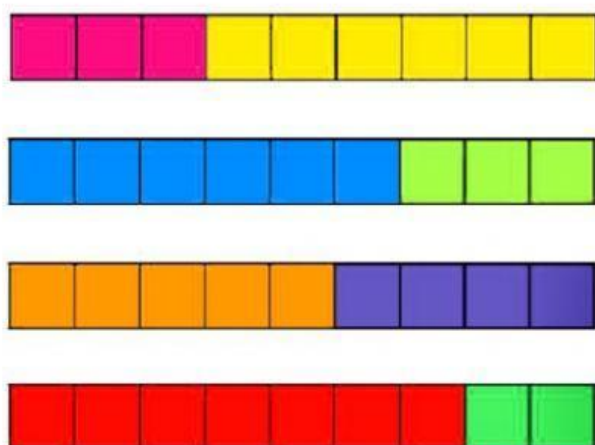
+  =



y  son .

+  =

Cuenta y completa.



►  +  =

►  +  =

►  +  =

►  +  =

Resuelve este problema y escribe cuántos barcos hay al final.



Había 4   +  =

Pone   Al final, hay  

Al final hay  barcos.