

UNIDAD EDUCATIVA PARTICULAR ANDREW
TALLER INTERACTIVO



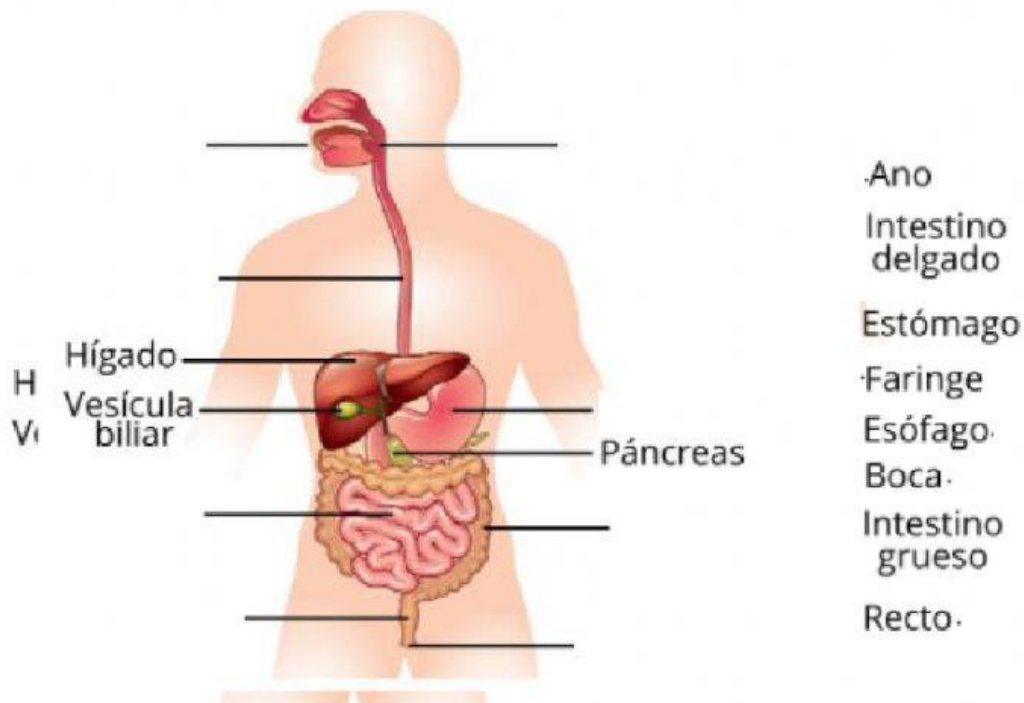
TEMA: MONITOR UNIDAD 3

NOMBRE:

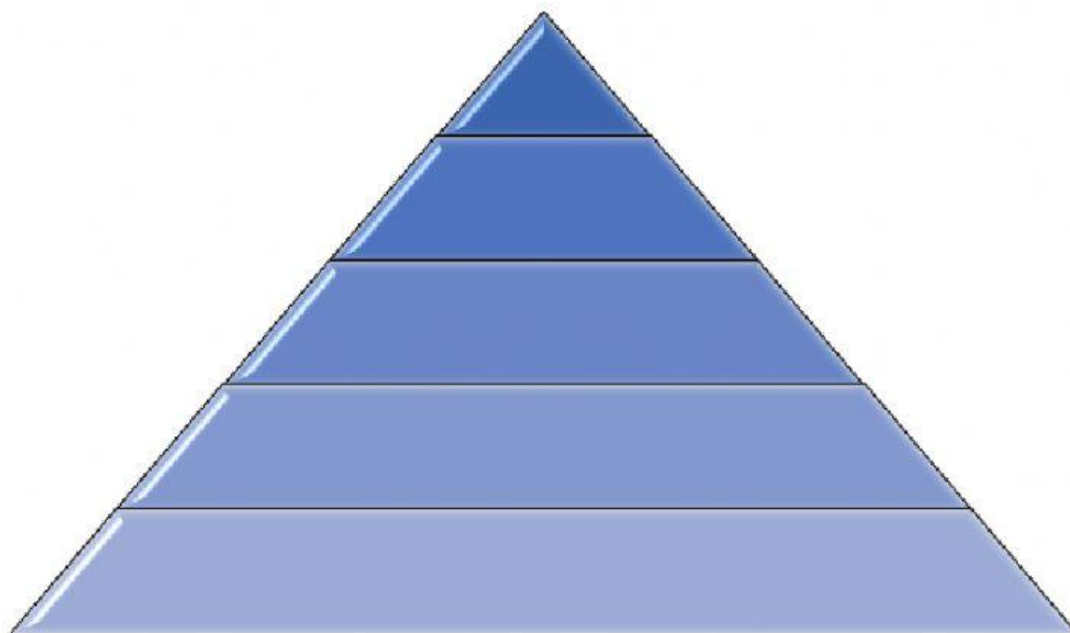
CURSO:

PROFESORA: Dra. Raquel Ripalda

1. ¿Qué nutrientes necesita tu cuerpo?
 - a) Proteínas
 - b) Vitaminas
 - c) Carbohidratos
 - d) Todos los anteriores
 - e) Ninguno de los anteriores
2. ¿Cuál es la porción de verduras?
 - a) 1 mano completa
 - b) 2 manos juntas
 - c) 2 manos sin incluir los dedos
3. ¿Cuál es la porción de frutas?
 - a) 1 mano incluida los dedos
 - b) 1 puño
 - c) 1 palma sin dedos
 - d) 2 manos
4. ¿Cuál es la porción de carbohidratos?
 - a) 1 puño
 - b) 1 palma incluido dedos
 - c) 2 manos
5. ESCOJA LAS PARTES CORRECTAS DEL SISTEMA DIGESTIVO



6. UBIQUE EN LA PIRAMIDE EL ALIMENTO CORRECTO



7. ORDENE LOS PROCESOS DE NUTRICIÓN

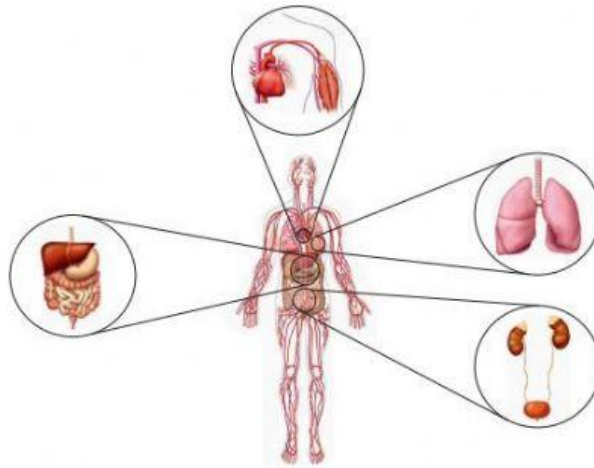
EXCRECIÓN	INGESTIÓN	CIRCULACIÓN	ABSORCIÓN	DIGESTIÓN

8. UNA EL ANIMAL CON SU ÓRGANO REPRESENTATIVO

MAMIFEROS
REPTILES
HERBÍVOROS
ANFIBIOS
RUMEANTES
PECES

Estómago con 4 cavidades
Costillas retráctiles
Lengua larga
Boca con labios y dientes
Molares con crestas cortantes
Arcos branquiales

9. RECONOZCA EL SISTEMA



URINARIO	DIGESTIVO	RESPIRATORIO	CIRCULATORIO
----------	-----------	--------------	--------------

10. SELECCIONE LA RESPUESTA CORRECTA

Necesitan de la luz para fabricar su alimento
Proceso mediante el cual intervienen los jugos gástricos
Se alimentan de materia orgánica viva
Se alimentan de materia orgánica en descomposición
Trituran los alimentos con los dientes para transformar la comida
Se alimentan de carne
Se alimentan de vegetales
Se alimentan tanto de vegetales como de carne

Carnívoro
herbívoro
Omnívoro
Fotosintetizador
Proceso químico
Proceso mecánico
Consumidor
Descomponedor

11. ORDENE LOS PROCESOS DE NUTRICIÓN

Ingresa los alimentos al organismo
Se absorben los nutrientes favorables para el organismo
Se transforman los alimentos de manera mecánica o química
Circulan los nutrientes favorables y los no favorables se desecha