












ชื่อ

ชั้น

วันที่

ใบงานวิทยาการคำนวณ ป.3

ให้เพื่อนๆ พิจารณาภาพต่อไปนี้แล้วหาคำตอบว่าผลไม้แต่ละชนิดมีค่าเท่าใด

		
		
		
↓	↓	↓
21	15	20



สับปะรด มีค่าเท่ากับ



สตอเบอร์รี่ มีค่าเท่ากับ



กล้วย มีค่าเท่ากับ