







ACTIVIDADES

- Selecciona donde haya pocos elementos.

- Completa la secuencia.



- Une con línea según corresponda.

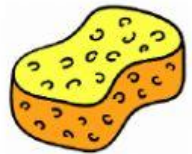
A



E



I



O



U



- Resuelve las sumas:

$$\text{pencil} + \text{pencil} = \square$$

$$\text{pineapple} + \text{pineapple} = \square$$

$$\text{carrot} + \text{carrot} = \square$$