





ESCRIBE LOS NÚMEROS QUE FALTAN

20		22		24		26		28		30
----	--	----	--	----	--	----	--	----	--	----

SUMA



	U	
	6	
+	3	

	U	
	8	
+	1	

	U	
	4	
+	4	

	D	U	
		8	
+		3	

	D	U	
		9	
+		2	

	D	U	
		7	
+		6	



RESTA

	U
	6
-	3

	U
	8
-	4

	U
	9
-	6

	U
	4
-	3

	U
	5
-	3

	U
	7
-	5

CALCULA:

$8 + 3 =$

$9 + 8 =$

$6 + 5 =$

$8 - 8 =$

$7 - 4 =$

$9 - 4 =$