

TOÁN

**ÔN TẬP
HÌNH HỌC VÀ ĐO LƯỜNG**



LIVEWORKSHEETS

 **1 SỐ?**



1 dm = ? cm



10 cm = ? dm



3 dm = ? cm



40 cm = ? dm





2 cm hay dm?

Điền cm hay dm vào chỗ chấm.

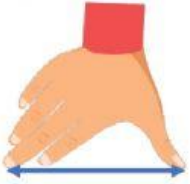
Một đốt



Một đốt ngón tay
của em dài 1



Em của bạn Lan
cao 10



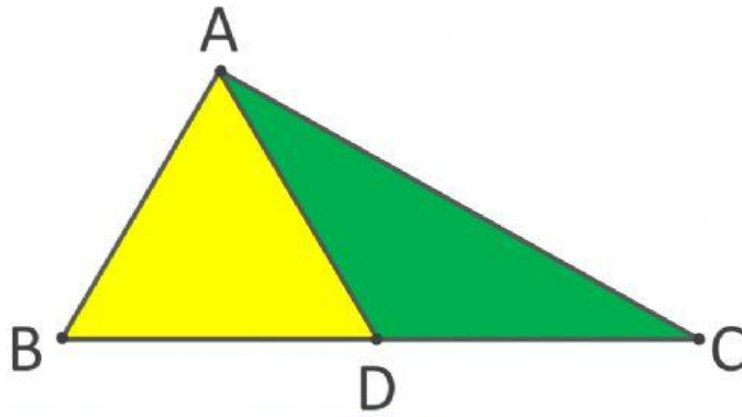
Một gang tay của
mẹ dài 2



Cây bút chì của
em dài 10



3 Quan sát hình vẽ bên

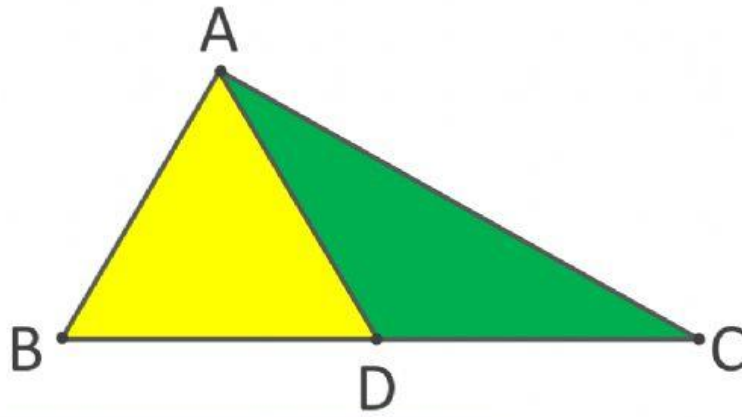


a. Đọc tên **các điểm**

Các điểm:



3 Quan sát hình vẽ bên

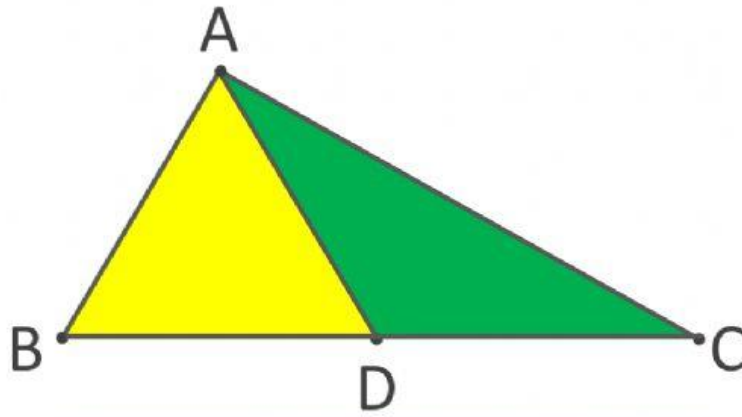


a. Đọc tên các đoạn thẳng

Các đoạn thẳng:



3 Quan sát hình vẽ bên



b. Đọc tên **ba điểm thẳng hàng**

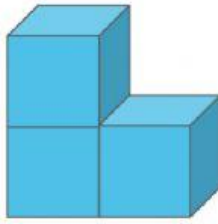
Ba điểmthẳng hàng.



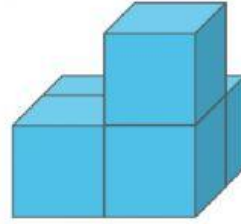
Hai hình nào ghép lại được **một khối lập phương**?



A




B



C

Hình.....ghép với hìn.....

4 Quan sát hình vẽ bên



a)

Đường thẳng

Đường cong

Đường gấp khúc

Đường màu đỏ là.....

Đường màu xanh dương là.....

Đường màu xanh lá là.....

Các bạn hãy
kéo thả các từ
vào chỗ chấm
cho thích hợp

LIVEWORKSHEETS



**Hẹn gặp lại các bạn trong
chuyến đi câu sắp tới nhé!**