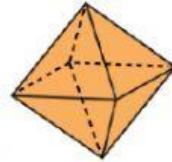
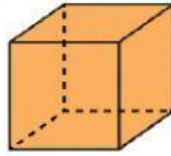
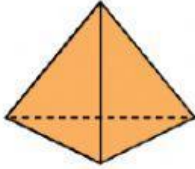
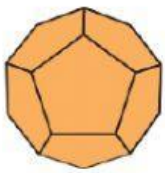


POLIEDROS REGULARES

1. ¿Qué es un poliedro regular? Contesta y escribe el nombre de cada uno.





2. Completa la tabla

	Tetraedro	Cubo	Octaedro	Dodecaedro	Icosaedro
Número de caras					
Polígono de las caras					
Número de vértices					