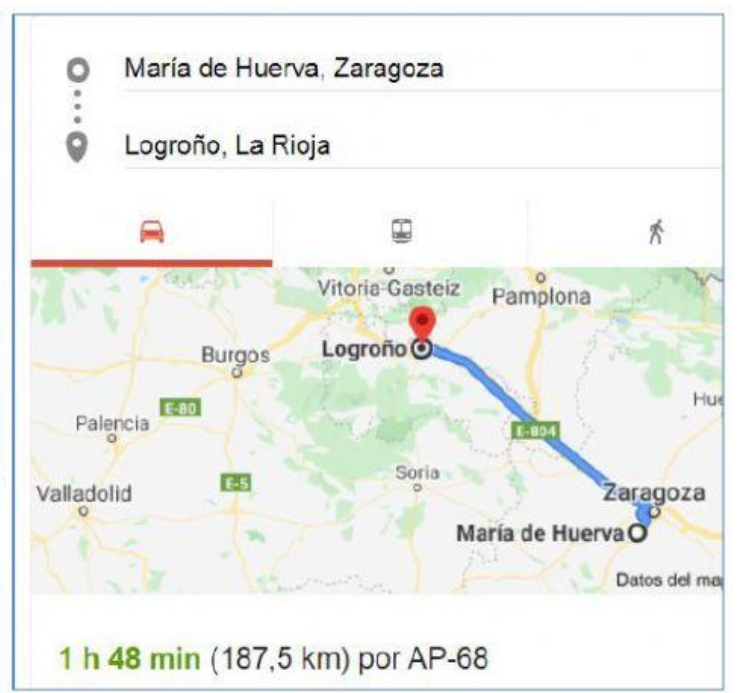
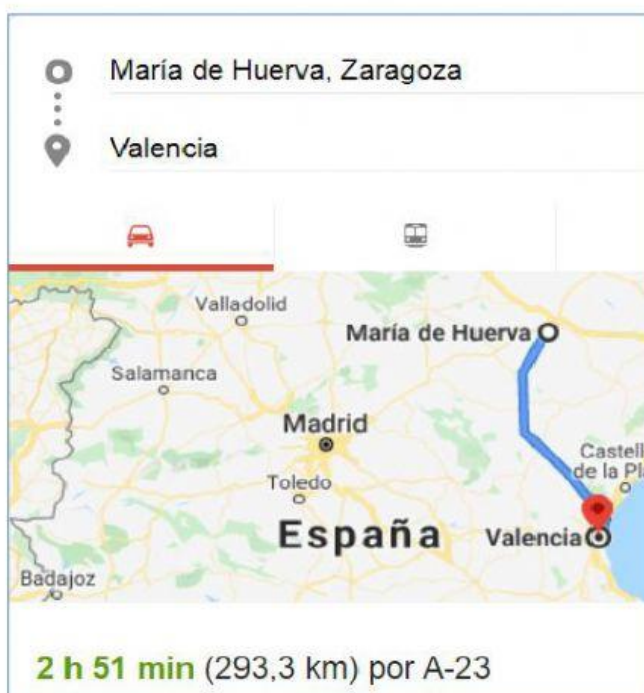
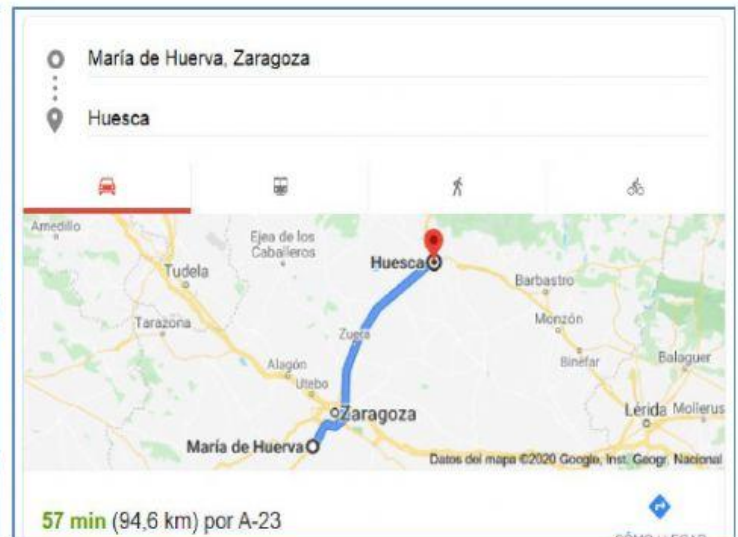
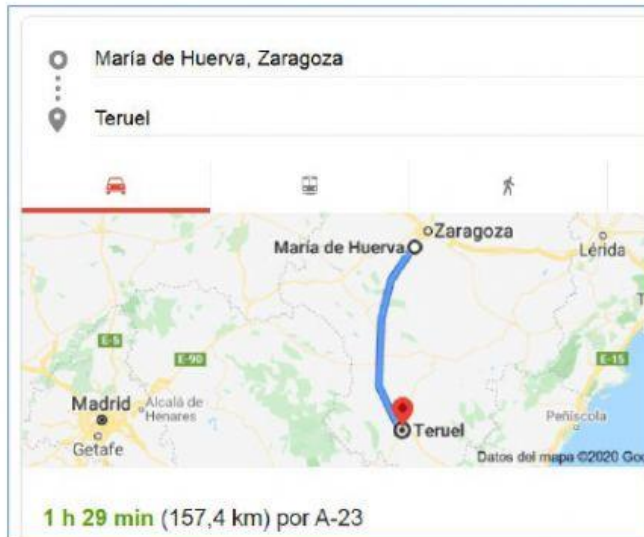


OPCIÓN A: PROBLEMAS

OBSERVA ESTAS IMÁGENES:

Representan la distancia desde María de Huerva a distintas ciudades y el tiempo que se tarda en llegar.



COMPLETA LA TABLA

Viajamos desde María de Huerva a....

CIUDAD	Distancia en km	Tiempo
Valencia		

Logroño		
Huesca		
Teruel		

RESPONDE Y CALCULA:

- ¿A cuál de todas las ciudades nos costaría más tiempo en llegar?

- ¿Cuántos minutos nos costaría llegar a Teruel? _____ minutos.

- ¿Llegaríamos antes a Teruel o a Logroño? _____

¿Cuántos minutos de diferencia?

- Si viajo de María de Huerva a Valencia y salgo a las 8 de la mañana a qué hora llegaré? A las ____: ____

Y si en lugar de hacer todo el viaje seguido hago una parada de 15min. Entonces, llegaré a las ____: ____

- ¿A qué hora llegaré a Logroño si salgo a las 15:00? Llegaré a las ____: ____

INVESTIGA:

DISTANCIA Y TIEMPO A ESTAS CIUDADES DESDE MARÍA DE HUERVA.

Para ello sólo has de poner en el buscador de google:

"De María de Huerva a ..."

CIUDADES	Distancia en km	Tiempo
Salou por AP-2		
Aínsa por AP-2		

¿Cuál de los dos destinos está más cerca? _____

¿Cuál es la diferencia de distancia entre una y otra? _____

¿Y en tiempo? _____